

SÈRIE 1

QÜESTIONS

1.- Considereu la matriu $A = \begin{pmatrix} a & 0 \\ 1 & -b \end{pmatrix}$. Calculeu el valor dels paràmetres a i b perquè $A^2 = \begin{pmatrix} 1 & 0 \\ -2 & 1 \end{pmatrix}$.

[2 punts]

Solució

Calculem el valor de la matriu A^2 ,

$$A^2 = \begin{pmatrix} a & 0 \\ 1 & -b \end{pmatrix} \begin{pmatrix} a & 0 \\ 1 & -b \end{pmatrix} = \begin{pmatrix} a^2 & 0 \\ a-b & b^2 \end{pmatrix}.$$

Quan igualem aquest resultat a la matriu $\begin{pmatrix} 1 & 0 \\ -2 & 1 \end{pmatrix}$ ens queden les equacions $a^2 = 1$, $a - b = -2$ i $b^2 = 1$. La segona equació permet assegurar que $a = b - 2$. Llavors, la primera equació és $(b - 2)^2 = 1$ que té per solucions $b = 3$ i $b = 1$; la tercera equació té per solucions $b = 1$ i $b = -1$. El valor que les compleix simultàniament és $b = 1$; d'aquí, $a = 1 - 2 = -1$.

També es pot treballar de la forma explicitada a continuació.

De la primera equació, resulta $a = \pm 1$; igualment, de la tercera en deduïm que $b = \pm 1$. Ara cal comprovar aquests valors en la segona equació.

- Quan $a = 1$ i $b = 1$, tenim que $a - b = 0$.
- Per $a = 1$ i $b = -1$, surt que $a - b = 2$.
- Si $a = -1$ i $b = 1$, ens queda que $a - b = -2$.
- Finalment, quan $a = -1$ i $b = -1$, tenim que $a - b = 0$.

Així l'única solució és $a = -1$ i $b = 1$.

2.- Considereu en l'espai \mathbb{R}^3 les rectes r i s , les equacions respectives de les quals són:

$$r : (x, y, z) = (4, 1, 0) + \lambda(m, 1, 1), \quad s : \begin{cases} x + 2y + mz = 0 \\ x + y + z = 1 \end{cases},$$

en què m és un paràmetre real. Estudieu si hi ha cap valor d'aquest paràmetre per al qual les rectes siguin perpendiculars i es tallin.

[2 punts]

Solució

Dues rectes són perpendiculars si ho són els seus vectors directors. Busquem, per tant, els vectors directors de les rectes.

És clar que com a vector director de la recta r podem agafar $v_r = (m, 1, 1)$.

El vector director de la recta s es pot trobar de diferents maneres; entre elles:

(a) Efectuant el producte vectorial dels vectors característics dels plans que la determinen,

$$v_s = \begin{vmatrix} i & j & k \\ 1 & 2 & m \\ 1 & 1 & 1 \end{vmatrix} = (2 - m, m - 1, -1).$$

(b) Buscant un vector (a, b, c) tal que sigui perpendicular als vectors característics dels plans que la determinen,

$$\begin{cases} (a, b, c) \cdot (1, 2, m) = 0 \\ (a, b, c) \cdot (1, 1, 1) = 0 \end{cases} \implies \begin{cases} a + 2b + mc = 0 \\ a + b + c = 0 \end{cases} \implies a = (m - 2)c, b = (1 - m)c.$$

Fent $c = 1$ (qualsevol altre valor no nul també serveix), tenim que $v_s = (m - 2, 1 - m, 1)$.

(c) Trobant les equacions paramètriques de la recta s . Per exemple, de la segona equació que la defineix podem deduir que $x = 1 - y - z$. Portant aquest valor a la primera, fent els càlculs adequats i aïllant la variable y , ens queda $y = (1 - m)z - 1$. Amb això, $x = 2 - (2 - m)z$. Les equacions paramètriques obtingudes per aquest camí són

$$\left. \begin{aligned} x &= 2 - (2 - m)\lambda \\ y &= -1 + (1 - m)\lambda \\ z &= \lambda \end{aligned} \right\}.$$

El vector director (coeficients del paràmetre λ) és llavors $v_s = (m - 2, 1 - m, 1)$.

Així, aquestes dues rectes són perpendiculars si i sol si $(m, 1, 1) \cdot (m - 2, 1 - m, 1) = 0$; d'aquí,

$$(m, 1, 1) \cdot (m - 2, 1 - m, 1) = 0 \implies m^2 - 3m + 2 = 0 \implies m = 1 \text{ o } m = 2.$$

Comprovem ara si les rectes es tallen per algun d'aquests dos valors.

- Quan $m = 1$, les equacions paramètriques de la recta r són $x = 4 + \lambda$, $y = 1 + \lambda$, $z = \lambda$. Substituint aquests valors a les equacions que determinen la recta s , tenim $(4 + \lambda) + 2(1 + \lambda) + \lambda = 0$ i $(4 + \lambda) + (1 + \lambda) + \lambda = 0$. La primera igualtat es compleix per $\lambda = -3/2$ i la segona per $\lambda = -4/3$. Això vol dir que, en aquest cas, les rectes no es tallen.
- Per $m = 2$ obtenim, seguint el mateix procediment, les equacions $(4 + 2\lambda) + 2(1 + \lambda) + 2\lambda = 0$ i $(4 + \lambda) + (1 + \lambda) + \lambda = 1$, que tenen $\lambda = -1$ com a solució comú.

Per tant, l'únic valor del paràmetre m per al qual les rectes són perpendiculars i es tallen és $m = 2$.

Naturalment, hi ha altres formes d'imposar la segona condició (que les rectes es tallin). Per exemple, buscant el vector \overrightarrow{PQ} , on P és un punt de la recta r i Q un punt de la recta s , i imposant que $\text{rang}(\overrightarrow{PQ}, v_r, v_s) < 3$. Això dona que $m = 2$.

De fet, és possible començar la resolució imposant la condició de què les rectes es tallin i comprovar després directament que pel valor obtingut, $m = 2$, les rectes són perpendiculars.

3.- Sigui $f(x) = 2x^3 - x^2 + 3x + 1$. Donades les rectes $r_1 : y = x + 2$ i $r_2 : y = 7x - 2$:

a) **Expliqueu, raonadament, si alguna de les dues rectes donades pot ser tangent a la corba $f(x)$ en algun punt.**

b) **En cas què alguna d'elles ho sigui, trobeu el punt de tangència.**

[1 punt per cada apartat]

Solució

a) Una recta i una corba són tangents en un punt si les dues passen pel punt i tenen el mateix pendent en ell. El pendent de la corba en un punt és el valor de la derivada de la funció en el punt. Calculem aquesta derivada: $f'(x) = 6x^2 - 2x + 3$.

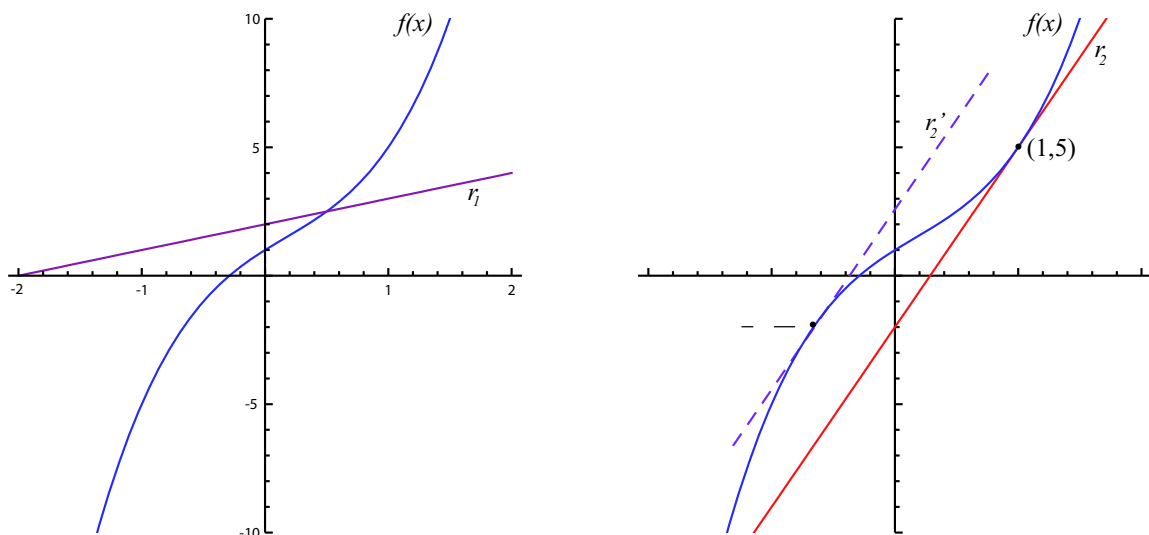
La recta r_1 pot ser tangent a la corba si i sol si existeix algun valor de x per al qual $f'(x) = 1$ (que és el valor del pendent de r_1). Com que l'equació $6x^2 - 2x + 3 = 1$ no té solucions (reals), la recta r_1 no pot ser tangent a la gràfica de $f(x)$.

Paral·lelament, la recta r_2 pot ser tangent a la corba si i sol si l'equació $6x^2 - 2x + 3 = 7$ té alguna solució. Com és fàcil veure, aquesta equació admet com a solucions $x = 1$ i $x = -2/3$. Per tant, la recta r_2 pot ser tangent a la gràfica de $f(x)$.

b) Per $x = 1$, la funció val $f(1) = 2 - 1 + 3 + 1 = 5$ i la recta r_1 , $y = 7 - 2 = 5$; o sigui, tant la corba com la recta passen pel punt $(1, 5)$. Aquest és el punt de tangència.

Per $x = -2/3$ tenim que $f(-2/3) = -55/27$ i $y(-2/3) = -20/3$, la qual cosa indica que la recta i la corba, en aquest cas, no són tangents.

Les següents gràfiques il·lustren la situació de la funció i de les rectes donades.



En la de l'esquerra tenim la posició de la funció $f(x)$ i r_1 , veient-se clarament que no poden ser tangents. En la de la dreta, la recta r_2 és tangent a la gràfica de $f(x)$ en el punt $(1, 5)$; la recta r_2' és paral·lela a r_2 (és a dir, té el mateix pendent) passant pel punt $(-2/3, -55/27)$, però, evidentment, no és r_2 .

4.- Donats els vectors $v_1 = (a + 1, 2a, 1)$, $v_2 = (-2, a, 2a)$, $v_3 = (a, -2, 4a - 2)$ de \mathbb{R}^3 :

a) **Calculeu l'angle que formen v_1 i v_2 quan $a = 0$.**

b) **Trobeu el valor del paràmetre a perquè els vectors v_1 , v_2 i v_3 siguin perpendiculars dos a dos.**

[1 punt per cada apartat]

Solució

a) Sigui α l'angle format pels vectors v_1 i v_2 . Llavors,

$$\cos \alpha = \frac{v_1 \cdot v_2}{\|v_1\| \|v_2\|} = \frac{(1, 0, 1) \cdot (-2, 0, 0)}{\sqrt{1^2 + 0^2 + 1^2} \sqrt{(-2)^2 + 0^2 + 0^2}} = \frac{-2}{2\sqrt{2}} = -\frac{\sqrt{2}}{2}.$$

D'aquí, $\alpha = 135^\circ = 3\pi/4$ rad.

b) Cal que es compleixi que $v_1 \cdot v_2 = 0$, $v_1 \cdot v_3 = 0$ i $v_2 \cdot v_3 = 0$.

$$v_1 \cdot v_2 = (a + 1, 2a, 1) \cdot (-2, a, 2a) = 2(a^2 - 1) = 0 \implies a = \pm 1$$

$$v_1 \cdot v_3 = (a + 1, 2a, 1) \cdot (a, -2, 4a - 2) = a^2 + a - 2 = 0 \implies a = 1, a = -2$$

$$v_2 \cdot v_3 = (-2, a, 2a) \cdot (a, -2, 4a - 2) = 8(a^2 - a) = 0 \implies a = 1, a = 0$$

Solament per $a = 1$ es compleixen les tres igualtats alhora.

PROBLEMES

5.- Considereu la funció real de variable real $f(x) = \frac{2x^3}{x^2 - 1}$.

a) Trobeu-ne el domini.

b) Calculeu l'equació de les seves asymptotes, si en té.

c) Estudieu-ne els intervals de creixement i de decreixement, així com les abscisses dels seus extrems relatius, si en té, classificant-los.

[0,5 punts per l'apartat a; 1,5 punts per l'apartat b; 2 punts per l'apartat c]

Solució

a) No són del domini solament els valors de la variable x que anul·len en denominador. Per tant, $\text{Dom}f = \mathbb{R} \setminus \{-1, 1\} = (-\infty, -1) \cup (-1, 1) \cup (1, +\infty)$.

b) *Asímtotes verticals.* Com que

$$\lim_{x \rightarrow -1^-} \frac{2x^3}{x^2 - 1} = \frac{-1}{0^+} = -\infty, \quad \lim_{x \rightarrow -1^+} \frac{2x^3}{x^2 - 1} = \frac{-1}{0^-} = +\infty,$$

podem assegurar que la recta $x = -1$ és una asímtota vertical. Paral·lelament, es comprova que $x = 1$ també és una asímtota vertical.

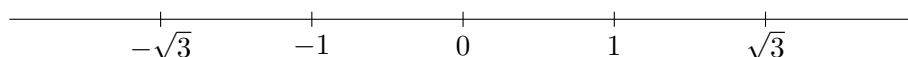
Asímtota horitzontal. El fet de què $\lim_{x \rightarrow \infty} f(x) = \infty$ (ja que el grau del numerador és major que el grau del denominador), ens assegura que no hi ha asímtota horitzontal.

Asímtota obliqua. És de la forma $y = mx + b$ amb $m = \lim_{x \rightarrow \infty} \frac{f(x)}{x}$ i $b = \lim_{x \rightarrow \infty} (f(x) - mx)$. En el nostre cas,

$$m = \lim_{x \rightarrow \infty} \frac{2x^3}{x^3 - x} = 2; \quad b = \lim_{x \rightarrow \infty} \left(\frac{2x^3}{x^2 - 1} - 2x \right) = 0.$$

Així, tenim asímtota obliqua, d'equació $y = 2x$.

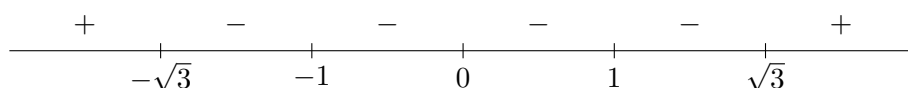
c) La derivada de la funció és $f'(x) = \frac{2x^4 - 6x^2}{(x^2 - 1)^2}$, que val zero quan $x = 0$, $x = -\sqrt{3}$ o $x = \sqrt{3}$. Marquem, a la recta real, els punts que anul·len la primera derivada i els que no són del domini,



Així, la recta real queda dividida en sis intervals: $(-\infty, -\sqrt{3})$, $(-\sqrt{3}, -1)$, $(-1, 0)$, $(0, 1)$, $(1, \sqrt{3})$ i $(\sqrt{3}, +\infty)$. Busquem el signe de la primera derivada en un punt de cada un d'aquests intervals,

$$f'(-2) > 0; \quad f'(-1,5) < 0; \quad f'(-0,5) < 0; \quad f'(0,5) < 0; \quad f'(1,5) < 0; \quad f'(2) > 0.$$

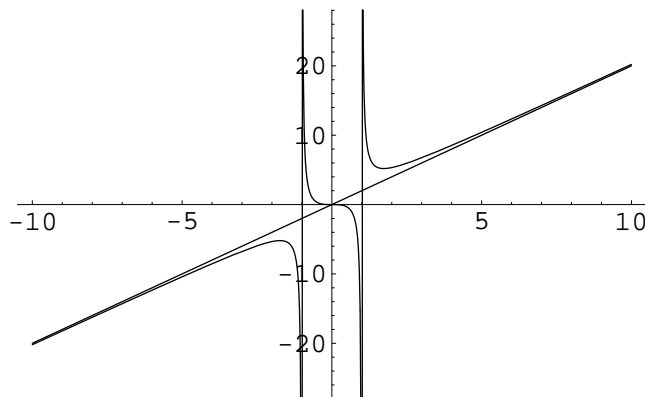
L'esquema de signes per la primera derivada és



Per tant, la funció $f(x)$

- és creixent a $(-\infty, -\sqrt{3}) \cup (\sqrt{3}, +\infty)$;
- és decreixent a $(-\sqrt{3}, -1) \cup (-1, 1) \cup (1, \sqrt{3})$;
- té un màxim quan $x = -\sqrt{3}$;
- té un mínim quan $x = \sqrt{3}$.

Encara que en el problema no es demana, la gràfica d'aquesta funció (amb indicació de les asímptotes) és, aproximadament,



6.- Considereu el sistema d'equacions següent:

$$\left. \begin{aligned} x + 5y + z + a &= 0 \\ (a - 2)z + x + 2y - 1 &= 0 \\ (a - 1)y + (1 - a)x + z + a + 2 &= 0 \end{aligned} \right\}$$

- a) Expliqueu, raonadament, si es tracta d'un sistema lineal homogeni.
- b) Construïu-ne la matriu de coeficients i la matriu ampliada.
- c) Trobeu els valors del paràmetre a per als quals el sistema no és compatible determinat, i estudeu el caràcter del sistema en cada un d'aquests casos.
- d) Resoleu-lo solament quan el conjunt de les seves solucions és una recta de \mathbb{R}^3 .

[0,5 punt per l'apartat a; 0,5 punts per l'apartat b; 2 punts per l'apartat c; 1 punt per l'apartat d]

Solució

a) Un sistema d'equacions lineals és homogeni quan tots els termes independents són nuls, cosa que no passa al nostre cas; per exemple, el terme independent de la segona equació és -1 (o 1 , si es considera translladat a la dreta de la igualtat). No és, doncs, un sistema homogeni.

b) La matriu de coeficients del sistema i la matriu ampliada són, respectivament,

$$A = \begin{pmatrix} 1 & 5 & 1 \\ 1 & 2 & a - 2 \\ 1 - a & a - 1 & 1 \end{pmatrix}; \quad \bar{A} = \begin{pmatrix} 1 & 5 & 1 & -a \\ 1 & 2 & a - 2 & 1 \\ 1 - a & a - 1 & 1 & -a - 2 \end{pmatrix}.$$

c) Escalonem la matriu ampliada per tal de calcular el rang que té, tant ella com la matriu de coeficients,

$$\left(\begin{array}{ccc|c} 1 & 5 & 1 & -a \\ 1 & 2 & a - 2 & 1 \\ 1 - a & a - 1 & 1 & -a - 2 \end{array} \right) \stackrel{(1)}{\sim} \left(\begin{array}{ccc|c} 1 & 5 & 1 & -a \\ 0 & -3 & a - 3 & a + 1 \\ 0 & 6a - 6 & a & -a^2 - 2 \end{array} \right)$$

$${}^{(2)} \left(\begin{array}{ccc|c} 1 & 5 & 1 & -a \\ 0 & -3 & a-3 & a+1 \\ 0 & 0 & 2a^2-7a+6 & a^2-4 \end{array} \right)$$

En (1) s'ha restat la fila 1 a la fila 2 ($F_2 - F_1$) i la fila 1 multiplicada per $1-a$ a la fila 3 ($F_3 - (1-a)F_1$); en (2) s'ha sumat la fila 2 multiplicada per $2a-2$ a la fila 3 ($F_3 + (a-2)F_1$).

Cal analitzar quins valors del paràmetre a fan que l'element de la tercera fila tercera columna sigui nul,

$$2a^2 - 7a + 6 = 0 \implies a = 2, a = 3/2.$$

Quan $a = 2$ o $a = 3/2$ el sistema no és compatible determinat.

Per $a = 2$, la matriu resultant de l'escalonament és $\left(\begin{array}{ccc|c} 1 & 5 & 1 & -2 \\ 0 & -3 & -1 & 3 \\ 0 & 0 & 0 & 0 \end{array} \right)$. En aquest cas, $\text{rang } A = \text{rang } \bar{A} = 2$; el sistema és compatible indeterminat (amb un grau de llibertat).

Per $a = 3/2$, la matriu resultant de l'escalonament és $\left(\begin{array}{ccc|c} 1 & 5 & 1 & -2 \\ 0 & -3 & -3/2 & 5/2 \\ 0 & 0 & 0 & -7/4 \end{array} \right)$, i el sistema és incompatible, ja que $\text{rang } A = 2 < 3 = \text{rang } \bar{A}$.

d) El conjunt de solucions del sistema és una recta a \mathbb{R}^3 si i sol si es tracta d'un sistema compatible indeterminat amb un grau de llibertat. Això passa per $a = 2$. Llavors, la solució és, per exemple, $x = 1 - 2y$, $z = -3 - 3y$.