



Sèrie 1

Responen a CINC de les sis qüestions següents. En les respostes, expliqueu sempre què voleu fer i per què.

Cada qüestió val 2 punts.

Podeu utilitzar calculadora, però no s'autoritzarà l'ús de calculadores o altres aparells que portin informació emmagatzemada o que puguin transmetre o rebre informació.

Criteris generals per a la correcció:

1. En tots els casos la resolució que fa l'estudiant s'ha de poder seguir i comprendre els passos que fa. **Aquelles respostes, parcials o totals, que no estiguin desenvolupades o no es pugui seguir el com s'ha arribat a donar la resolució seran puntuades amb 0 punts.**
2. La resolució proposada és, en alguns casos, una de les possibles i no és, en principi, única. Per tant, **sempre que l'enunciat ho permeti, en el cas que l'estudiant respongui amb una resolució alternativa totalment correcta se li assignarà el total de puntuació de l'apartat.** Si la resposta és parcial la puntuació obtinguda serà proporcional a la part corresponent de la puntuació total.
3. En alguns casos, la solució final pot admetre **expressions equivalents**. En aquests casos la puntuació serà la totalitat de la puntuació de l'apartat.
4. Tots els exercicis, apartats i passos dins d'un apartat es valoraran amb múltiples de 0,25 punts.
5. **Penalització per errades de càlcul o transcripció:**
 - Si l'errada que es comet no té més transcendència, aleshores NO es descomptarà res de la puntuació parcial de l'apartat.
 - En el cas que l'errada condueixi a derivacions paral·leles de l'enunciat, es valorarà i puntuarà el desenvolupament i coherència de la resolució resultant, i només s'aplicarà una penalització final de 0,25 punts.
 - En cas que l'errada condueixi a no tenir sentit alguna de les qüestions que es demanen, aleshores la puntuació màxima de l'apartat serà de 0,75 punts.
 - Si la resolució d'un apartat conté dues errades la puntuació de l'apartat serà l'acumulada fins al moment previ al cometre la segona errada.



Criteris de correcció

Matemàtiques

1. Les pàgines d'un llibre han de tenir cada una 600 cm^2 de superfície, amb uns marges al voltant del text de 2 cm a la part inferior, 3 cm a la part superior i 2 cm a cada costat. Calculeu les dimensions de la pàgina que permeten la superfície impresa més gran possible.

[2 punts]

Resolució:

Si anomenem x l'amplada i y l'alçada de les pàgines, l'enunciat ens diu que la superfície de la pàgina ha de ser de 600 cm^2 , és a dir que $xy = 600$.

Per tant, podem expressar l'alçada en funció de l'amplada, $y = \frac{600}{x}$.

L'amplada de l'àrea impresa serà, després de restar els marges laterals, $x-4$.

L'alçada de l'àrea impresa serà, després de restar els marges superior i inferior, $y-5$.

Per tant, la superfície a maximitzar és $S(x, y) = (x - 4)(y - 5)$.

Quan substituïm la y a l'expressió de S obtenim la superfície només en funció de x :

$$S(x) = (x - 4) \left(\frac{600}{x} - 5 \right) = 600 - 5x - \frac{2400}{x} + 20 = 620 - 5x - \frac{2400}{x}$$

Per a maximitzar S calculem primer les dues primeres derivades.

$$S'(x) = -5 + \frac{2400}{x^2}$$

$$S''(x) = -\frac{4800}{x^3}$$

Els candidats a màxim seran els punts que anul·lin la derivada primera, $S'(x)$. Quan fem

$$S'(x) = 0, \text{ obtenim } 5 = \frac{2400}{x^2} \text{ i, per tant, } x = +\sqrt{\frac{2400}{5}} = +\sqrt{480} = 4\sqrt{30}.$$

(Observem que els valors negatius de x no tenen sentit per al problema.)

Per a comprovar que a $x = 4\sqrt{30}$ hi ha efectivament un màxim, substituïm el valor a la derivada segona i tenim $S''(4\sqrt{30}) < 0$. Per tant, l'amplada que maximitza l'àrea impresa és $x = 4\sqrt{30} = 21,91 \text{ cm}$.

L'alçada que li correspon serà $y = \frac{600}{4\sqrt{30}} = \frac{600 \cdot \sqrt{30}}{4 \cdot 30} = 5\sqrt{30} = 27,39 \text{ cm}$.

Pautes de correcció:



Criteris de correcció

Matemàtiques

- 0,25 punts per la lligadura i l'expressió d' y en termes d' x .
- 0,25 punts per l'expressió inicial de la superfície.
- 0,25 punts per l'expressió de la superfície només en funció d'una variable.
- 0,25 punts per la derivada primera.
- 0,25 punts per la derivada segona.
- 0,25 punts pel valor crític de x .
- 0,25 punts per comprovar que és màxim relatiu
- 0,25 punts pel valor crític de y .

Observació: No cal donar l'expressió decimal de x i y per a tenir l'exercici completament resolt.



2. Considereu el sistema d'equacions lineals següent, que depèn del paràmetre real k :

$$\begin{cases} x + 3y + 2z = -1 \\ x + k^2y + 3z = 2k \\ 3x + 7y + 7z = k - 3 \end{cases}$$

a) Discuti el sistema per als diferents valors del paràmetre k .

[1 punt]

b) Resoleu el sistema per al cas $k = -1$.

[1 punt]

Resolució:

a) La matriu del sistema és $\begin{pmatrix} 1 & 3 & 2 & -1 \\ 1 & k^2 & 3 & 2k \\ 3 & 7 & 7 & k-3 \end{pmatrix}$. Igualem el determinant de la

matriu de coeficients a zero:

$$\begin{vmatrix} 1 & 3 & 2 \\ 1 & k^2 & 3 \\ 3 & 7 & 7 \end{vmatrix} = k^2 - 1 = 0 \rightarrow \begin{cases} k = 1 \\ k = -1 \end{cases}$$

Cas 1: $k \neq \pm 1$. El sistema és compatible determinat $\det(A) \neq 0$ i, per tant,

$rg(A) = rg(\bar{A}) = 3 = \text{nombre d'incògnites}$.

Cas 2: $k = 1$

$$rg(A) = rg \begin{pmatrix} 1 & 3 & 2 \\ 1 & 1 & 3 \\ 3 & 7 & 7 \end{pmatrix} = 2, \text{ ja que el menor } \begin{vmatrix} 1 & 3 \\ 1 & 1 \end{vmatrix} = 1 - 3 = -2 \neq 0.$$

$$rg(\bar{A}) = rg \begin{pmatrix} 1 & 3 & 2 & -1 \\ 1 & 1 & 3 & 2 \\ 3 & 7 & 7 & -2 \end{pmatrix} = rg \begin{pmatrix} 1 & 3 & 2 & -1 \\ 0 & 2 & -1 & -3 \\ 0 & -2 & 1 & 1 \end{pmatrix} = rg \begin{pmatrix} 1 & 3 & 2 & -1 \\ 0 & 2 & -1 & -3 \\ 0 & 0 & 0 & -2 \end{pmatrix} = 3$$

Per tant, és un sistema incompatible, ja que $rg(A) = 2 < rg(\bar{A}) = 3$.



Cas 3: $k = -1$

$$\operatorname{rg}(A) = \operatorname{rg} \begin{pmatrix} 1 & 3 & 2 \\ 1 & 1 & 3 \\ 3 & 7 & 7 \end{pmatrix} = 2, \text{ ja que el menor } \begin{vmatrix} 1 & 3 \\ 1 & 1 \end{vmatrix} = 1 - 3 = -2 \neq 0.$$

$$\operatorname{rg}(\bar{A}) = \operatorname{rg} \begin{pmatrix} 1 & 3 & 2 & -1 \\ 1 & 1 & 3 & -2 \\ 3 & 7 & 7 & -4 \end{pmatrix} = \operatorname{rg} \begin{pmatrix} 1 & 3 & 2 & -1 \\ 0 & -2 & 1 & -1 \\ 0 & -2 & 1 & -1 \end{pmatrix} = 2$$

Per tant, és un sistema compatible indeterminat, ja que $\operatorname{rg}(A) = \operatorname{rg}(\bar{A}) = 2 < 3$.

- b)** Si $k = -1$, el sistema d'equacions és compatible indeterminat amb un grau de llibertat, ja que tenim 3 incògnites i el rang de les matrius és 2. Les solucions del sistema són:

$$\begin{cases} x + 3y + 2z = -1 \\ x + y + 3z = -2 \\ 3x + 7y + 7z = -4 \end{cases} \rightarrow \begin{cases} x + 3y + 2z = -1 \\ x + y + 3z = -2 \end{cases} \rightarrow \begin{cases} x + 3y + 2z = -1 \\ 2y - z = 1 \end{cases} \rightarrow \begin{cases} x = 1 - 7t \\ y = t \\ z = 2t - 1 \end{cases} \quad t \in \mathbf{R}$$

Pautes de correcció:

- a)** 0,25 punts per la presentació matricial del sistema o els primers passos per arribar als valors crítics per a la discussió.
0,75 punts per la discussió dels tres casos (0,25 punts per cada cas).
- b)** 0,5 punts per la resolució del sistema.
0,5 punts per la formulació general de les solucions.

Observació: El model de resolució és orientatiu, ja que tant a l'apartat a) com al b) es poden fer servir mètodes alternatius per a la discussió i la resolució.



3. Un dron es troba en el punt $P = (2, -3, 1)$ i volem dirigir-lo en línia recta fins al punt més proper del pla d'equació $\pi : 3x + 4z + 15 = 0$.

a) Calculeu l'equació de la recta, en forma paramètrica, que ha de seguir el dron. Quina distància ha de recórrer fins a arribar al pla?

[1 punt]

b) Trobeu les coordenades del punt del pla on arribarà el dron.

[1 punt]

Nota: Podeu calcular la distància d'un punt de coordenades (x_0, y_0, z_0) al pla

d'equació $Ax + By + Cz + D = 0$ amb l'expressió $\frac{|Ax_0 + By_0 + Cz_0 + D|}{\sqrt{A^2 + B^2 + C^2}}$.

Resolució:

a) La trajectòria que ha de seguir el dron és la recta que passa pel punt $P = (2, -3, 1)$ i té vector director perpendicular al pla $\pi : 3x + 4z + 15 = 0$. El vector director serà $v_r = (A, B, C) = (3, 0, 4)$. Per tant, en forma paramètrica

$$\begin{cases} x = 2 + 3t \\ y = -3 \\ z = 1 + 4t \end{cases} \quad t \in \mathbf{R}$$

La distància que ha de recórrer és:

$$d(P, \pi) = \frac{|3 \cdot 2 + 0 \cdot (-3) + 4 \cdot 1 + 15|}{\sqrt{3^2 + 0^2 + 4^2}} = \frac{25}{5} = 5u$$

b) Cal trobar el punt d'intersecció de la recta amb el pla:

$$\begin{cases} (x, y, z) = (2 + 3t, -3, 1 + 4t) \\ \pi : 3x + 4z + 15 = 0 \end{cases} \rightarrow 3(2 + 3t) + 4(1 + 4t) + 15 = 0 \rightarrow t = -1$$

Així, el punt buscat és $(-1, -3, -3)$.

Pautes de correcció:

a) 0,25 punts per identificar el vector director de la recta.
0,25 punts per donar la forma paramètrica de la recta.
0,5 punts per calcular la distància.

b) 0,5 punts per plantejar la intersecció de la recta amb el pla.
0,5 punts per la resolució i trobar el punt demanat.



4. Considereu la funció $f(x) = \frac{2x^3 - 5x + 4}{1 - x}$.

a) Calculeu-ne el domini i estudeu-ne la continuïtat. Té cap asymptota vertical?

[1 punt]

b) Observeu que $f(-2) = -\frac{2}{3}$, $f(0) = 4$ i $f(2) = -10$. Raoneu si, a partir d'aquesta

informació, podem deduir que l'interval $(-2, 0)$ conté un zero de la funció.

Podem deduir-ho per a l'interval $(0, 2)$? Trobeu un interval determinat per dos enters consecutius que contingui, com a mínim, un zero d'aquesta funció.

[1 punt]

Resolució:

a) En tractar-se d'una funció que és quocient de dos polinomis, el domini d'aquesta funció són tots els nombres reals excepte els que anul·len el denominador:

$$1 - x = 0 \rightarrow x = 1.$$

$$\text{Per tant, } \text{Dom } f = \mathbf{R} - \{1\} = (-\infty, 1) \cup (1, +\infty).$$

La funció f és contínua en tot el seu domini ja que és quocient de polinomis, que són funcions contínues.

L'únic punt on pot presentar una asymptota vertical és en $x = 1$ i, efectivament, ho és ja que:

$$\left. \begin{array}{l} \lim_{x \rightarrow 1^-} \frac{2x^3 - 5x + 4}{1 - x} = +\infty \\ \lim_{x \rightarrow 1^+} \frac{2x^3 - 5x + 4}{1 - x} = -\infty \end{array} \right\}$$

b) La funció presenta una discontinuïtat asimptòtica en $x = 1$. Podem aplicar el teorema de Bolzano per determinar un interval que contingui un zero de la funció, però aquest interval no pot contenir $x = 1$.

Així doncs, quan apliquem el teorema de Bolzano a l'interval $[-2, 0]$, podem afirmar que la funció té un zero a l'interval $(-2, 0)$, ja que $f(-2) \cdot f(0) < 0$ però no ho podem afirmar en l'interval $(0, 2)$, ja que aquest interval conté el punt de discontinuïtat $x = 1$.



Avaluant la funció per a $x = -1$, tindrem l'interval demanat:

$$\left. \begin{array}{l} f(-2) = -\frac{2}{3} < 0 \\ f(-1) = \frac{7}{2} > 0 \end{array} \right\} \rightarrow \text{Per tant, aplicant el teorema de Bolzano a l'interval}$$

$[-2, -1]$, l'interval $(-2, -1)$ conté un zero de la funció.

Pautes de correcció:

- a) 0,25 punts pel domini.
0,5 punts per la continuïtat.
0,25 punts per l'asíptota

Observació: Cal explicitar els límits laterals per a determinar l'asíptota

- b) 0,25 punts per fer servir el teorema de Bolzano.
0,5 punts per raonar que la funció té un zero en un interval però no en l'altre.
0,25 punts per trobar l'interval d'extremes dos enters consecutius.



5. Sigui la matriu $M = \begin{pmatrix} 1 & a \\ a & 0 \end{pmatrix}$, en què a és un paràmetre real.

a) Calculeu per a quins valors del paràmetre a se satisfà la igualtat $M^2 - M - 2I = 0$, en què I és la matriu identitat i 0 és la matriu nul·la, totes dues d'ordre 2.

[1 punt]

b) Fent servir la igualtat de l'apartat anterior, trobeu una expressió general per a calcular la inversa de la matriu M i, a continuació, calculeu la inversa de M per al cas $a = \sqrt{2}$.

[1 punt]

Resolució:

a) Imposem $M^2 - M - 2I = 0$:

$$M^2 - M - 2I = \begin{pmatrix} 1+a^2 & a \\ a & a^2 \end{pmatrix} - \begin{pmatrix} 1 & a \\ a & 0 \end{pmatrix} - 2 \begin{pmatrix} 1 & 0 \\ 0 & 1 \end{pmatrix} = \begin{pmatrix} a^2-2 & 0 \\ 0 & a^2-2 \end{pmatrix} = \begin{pmatrix} 0 & 0 \\ 0 & 0 \end{pmatrix}$$

Els únics valors per als quals se satisfà la igualtat són $a^2 - 2 = 0 \rightarrow a = \pm\sqrt{2}$

b) Per a l'expressió general, operem la igualtat de l'apartat a:

$$M^2 - M - 2I = 0 \rightarrow M^2 - M = 2I \rightarrow M(M - I) = 2I \rightarrow M \frac{1}{2}(M - I) = I$$

Així doncs, d'aquesta darrera igualtat, deduïm $M^{-1} = \frac{1}{2}(M - I)$.

Per $a = \sqrt{2}$, se satisfà $M^2 - M - 2I = 0$, per tant podem aplicar el resultat anterior:

$$M^{-1} = \frac{1}{2}(M - I) = \frac{1}{2} \left(\begin{pmatrix} 1 & \sqrt{2} \\ \sqrt{2} & 0 \end{pmatrix} - \begin{pmatrix} 1 & 0 \\ 0 & 1 \end{pmatrix} \right) = \frac{1}{2} \begin{pmatrix} 0 & \sqrt{2} \\ \sqrt{2} & -1 \end{pmatrix}$$

Pautes de correcció:

- a) 0,5 punts per les operacions amb les matrius.
0,5 punts per trobar els dos valors del paràmetre.
- b) 0,5 punts per l'expressió general de la inversa.
0,5 punts per donar la inversa demanada.

Observació: En cas que l'estudiant calculi directament només la matriu inversa sense tenir en compte l'expressió general la puntuació de l'apartat b) serà de 0,5 punts.



6. Considereu les funcions $f(x) = x^2$ i $g(x) = \frac{1}{x}$, i la recta $x = e$.

a) Feu un esbós de la regió delimitada per les seves gràfiques i l'eix de les abscisses.

Calculeu les coordenades del punt de tall de $y = f(x)$ amb $y = g(x)$.

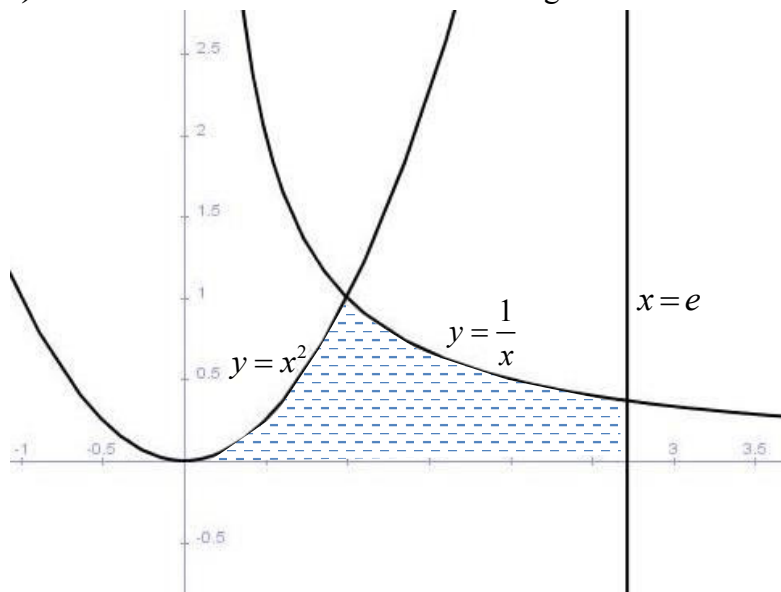
[1 punt]

b) Calculeu l'àrea de la regió descrita en l'apartat anterior.

[1 punt]

Resolució:

a) No cal fer un estudi exhaustiu de cada gràfica. Poden fer l'esbós directament.



Calculem punts de tall:

$$\left. \begin{array}{l} y = x^2 \\ y = \frac{1}{x} \end{array} \right\} \rightarrow x^2 = \frac{1}{x} \rightarrow x^3 = 1 \rightarrow x = 1 \rightarrow (1, 1)$$

b) Cal expressar l'àrea amb la suma de dues integrals definides:

$$\int_0^1 f(x) dx + \int_1^e g(x) dx = \int_0^1 x^2 dx + \int_1^e \frac{1}{x} dx = \frac{x^3}{3} \Big|_0^1 + \ln(x) \Big|_1^e = \frac{1}{3} + 1 = \frac{4}{3} u^2$$

Pautes de correcció:

a) 0,75 punts per l'esbós de la regió (0,25 per cada expressió).
0,25 punts pel punt d'intersecció.

b) 0,5 punts per expressar l'àrea demanada amb integrals definides.
0,5 punts pel càlcul de les primitives i el resultat final.



Sèrie 4

Responeu a CINC de les sis qüestions següents. En les respostes, expliqueu sempre què voleu fer i per què.

Cada qüestió val 2 punts.

Podeu utilitzar calculadora, però no s'autoritzarà l'ús de calculadores o altres aparells que portin informació emmagatzemada o que puguin transmetre o rebre informació.

Criteris generals per a la correcció:

6. En tots els casos la resolució que fa l'estudiant s'ha de poder seguir i comprendre els passos que fa. **Aquelles respostes, parcials o totals, que no estiguin desenvolupades o no es pugui seguir el com s'ha arribat a donar la resolució seran puntuades amb 0 punts.**
7. La resolució proposada és, en alguns casos, una de les possibles i no és, en principi, única. Per tant, **sempre que l'enunciat ho permeti, en el cas que l'estudiant respongui amb una resolució alternativa totalment correcta se li assignarà el total de puntuació de l'apartat.** Si la resposta és parcial la puntuació obtinguda serà proporcional a la part corresponent de la puntuació total.
8. En alguns casos, la solució final pot admetre **expressions equivalents**. En aquests casos la puntuació serà la totalitat de la puntuació de l'apartat.
9. Tots els exercicis, apartats i passos dins d'un apartat es valoraran amb múltiples de 0,25 punts.
10. **Penalització per errades de càlcul o transcripció:**
 - Si l'errada que es comet no té més transcendència, aleshores NO es descomptarà res de la puntuació parcial de l'apartat.
 - En el cas que l'errada condueixi a derivacions paral·leles de l'enunciat, es valorarà i puntuarà el desenvolupament i coherència de la resolució resultant, i només s'aplicarà una penalització final de 0,25 punts.
 - En cas que l'errada condueixi a no tenir sentit alguna de les qüestions que es demanen, aleshores la puntuació màxima de l'apartat serà de 0,75 punts.
 - Si la resolució d'un apartat conté dues errades la puntuació de l'apartat serà l'acumulada fins al moment previ al cometre la segona errada.



Criteris de correcció

Matemàtiques

2. Volem construir un marc rectangular de fusta que delimiti una àrea de 2 m^2 . Sabem que el preu de la fusta és de $7,5 \text{ €/m}$ per als costats horitzontals i de $12,5 \text{ €/m}$ per als costats verticals. Determineu les dimensions que ha de tenir el rectangle perquè el cost total del marc sigui el mínim possible. Quin és aquest cost mínim?
[2 punts]

Resolució:

Anomenem x a la mesura del costat horitzontal del rectangle i y a la mesura del costat vertical.

Atès que l'àrea del rectangle ha de ser de dos metres quadrats, sabem que $x \cdot y = 2$

La funció que facilita el cost a partir de la mesura dels costats és:

$$C(x, y) = 7,5 \cdot 2x + 12,5 \cdot 2y = 15x + 25y$$

Com que $x \cdot y = 2$, sabem que $y = 2/x$ i, per tant, $C(x) = 15x + 50/x$

Estudiem per a quin valor de $x > 0$ és mínima la funció cost:

$$C'(x) = 15 - 50/x^2$$

$$C'(x) = 0 \leftrightarrow 15 - \frac{50}{x^2} = 0 \leftrightarrow x = \sqrt{\frac{10}{3}} = \frac{\sqrt{30}}{3}$$

$$C''(x) = 100/x^3$$

$$C''\left(x = \frac{\sqrt{30}}{3}\right) > 0 \rightarrow \text{Mínim relatiu de } C(x) \text{ quan } x = \frac{\sqrt{30}}{3} \text{ m}$$

$$y = \frac{2}{x} = \frac{2}{\frac{\sqrt{30}}{3}} = \frac{6}{\sqrt{30}} = \frac{\sqrt{30}}{5} \text{ m}$$

Les dimensions que hem d'escollir per tal que el marc sigui el més econòmic possible són $x = \frac{\sqrt{30}}{3}$ m pel costat horitzontal i $y = \frac{\sqrt{30}}{5}$ m pel costat vertical del marc.

El cost més econòmic és

$$C\left(x = \frac{\sqrt{30}}{3}, y = \frac{\sqrt{30}}{5}\right) = 15 \cdot \frac{\sqrt{30}}{3} + 25 \cdot \frac{\sqrt{30}}{5} = \boxed{10\sqrt{30} \text{ €} \cong 54,77 \text{ €}}$$



Pautes de correcció:

- 0,25 punts per l'assignació de les variables.
- 0,25 punts per la igualtat de l'àrea.
- 0,25 punts per la funció cost.
- 0,25 punts per la funció derivada primera.
- 0,25 punts pel valor singular.
- 0,25 punts per argumentar que es tracta d'un mínim.
- 0,25 punts per les dimensions finals.
- 0,25 punts pel cost mínim.



2. Siguin la recta $r: \begin{cases} x = 2 \\ y - z = 1 \end{cases}$ i el pla $\pi: x - z = 3$.

a) Calculeu l'equació paramètrica de la recta que és perpendicular al pla π i que el talla en el mateix punt en què el talla la recta r .

[1 punt]

b) Trobeu els punts de r que estan a una distància de $\sqrt{8}$ unitats del pla π .

[1 punt]

Nota: Podeu calcular la distància d'un punt de coordenades (x_0, y_0, z_0) al pla

d'equació $Ax + By + Cz + D = 0$ amb l'expressió $\frac{|Ax_0 + By_0 + Cz_0 + D|}{\sqrt{A^2 + B^2 + C^2}}$.

Resolució:

La recta que es demana té vector director $n = (1, 0, -1)$ i passa pel punt d'intersecció de r i π . Busquem el punt de la recta $r, P_r = (2, 1 + \lambda, \lambda)$, substituint-lo a l'equació del pla: $2 - \lambda - 3 = 0 \Rightarrow \lambda = -1$.

El punt de la recta és $(2, 0, -1)$

$$\left. \begin{aligned} x &= 2 + \mu \\ y &= 0 \\ z &= -1 - \mu \end{aligned} \right\}$$

Per tant, l'equació paramètrica de la recta buscada serà:

Busquem els punts de r tals que $d(P_r, \pi) = \sqrt{8}$.

$$d(P_r, \pi) = \frac{|2 - \lambda - 3|}{\sqrt{1^2 + (-1)^2}} = \frac{|-1 - \lambda|}{\sqrt{2}} = \sqrt{8} \Rightarrow |-1 - \lambda| = 4 \Rightarrow \lambda = -5 \text{ o } \lambda = 3$$

Per tant els punts són $(2, -4, -5)$ i $(2, 4, 3)$.

Pautes de correcció:

a)

0,25 punts pel vector normal del pla.

0,25 punts per la forma paramètrica de r .

0,25 punts pel punt intersecció del pla i la recta.

0,25 punts per l'equació paramètrica de la recta que es demana.

b)

0,25 punts per plantejar l'equació a resoldre.

0,25 punts pel valor solució.

0,25 punts per un primer punt.

0,25 punts per un segon punt.



3. Considereu el sistema d'equacions lineals següent, que depèn del paràmetre real a :

$$\begin{cases} ax + 7y + 5z = 0 \\ x + ay + z = 3 \\ y + z = -2 \end{cases}$$

- c) Discutiu el sistema per als diferents valors del paràmetre a .
[1 punt]
- d) Resoleu el sistema per al cas $a = 2$.
[1 punt]

Resolució:

a) El sistema en forma matricial és el següent:

$$A' = A|b = \left(\begin{array}{ccc|c} a & 7 & 5 & 0 \\ 1 & a & 1 & 3 \\ 0 & 1 & 1 & -2 \end{array} \right)$$

Anem a calcular el $\text{rang}(A)$ i $\text{rang}(A')$ per als diferents valors del paràmetre a .

El $\text{rang}(A)$ serà màxim quan el determinant de la matriu A sigui diferent de 0. Calculem el determinant de la matriu A .

$$\begin{vmatrix} a & 7 & 5 \\ 1 & a & 1 \\ 0 & 1 & 1 \end{vmatrix} = a^2 + 5 - a - 7 = a^2 - a - 2$$

Quan resollem $a^2 - a - 2 = 0$ obtenim els valors $a = -1$ i $a = 2$.

- Cas $a \neq -1$ i $a \neq 2$.

$|A| \neq 0$ i per tant $\text{rang}(A) = 3 = \text{rang}(A')$ = nombre d'incògnites, per tant el sistema és Compatible Determinat.

- Cas $a = -1$

Substituïm el valor d' a i obtenim:

$$A' = A|b = \left(\begin{array}{ccc|c} -1 & 7 & 5 & 0 \\ 1 & -1 & 1 & 3 \\ 0 & 1 & 1 & -2 \end{array} \right)$$

Com que $|A| = 0$ aleshores $\text{rang}(A) < 3$, però com que $\begin{vmatrix} 1 & -1 \\ 0 & 1 \end{vmatrix} = 1 \neq 0$, aleshores $\text{rang}(A) = 2$.

Com que $\begin{vmatrix} -1 & 7 & 0 \\ 1 & -1 & 3 \\ 0 & 1 & -2 \end{vmatrix} = -2 + 3 + 14 = 15 \neq 0$, aleshores $\text{rang}(A') = 3$

Com que $\text{rang}(A) \neq \text{rang}(A')$, aleshores el sistema és Incompatible.



Criteris de correcció

Matemàtiques

- Cas $a = 2$

Substituïm el valor d' a i obtenim:

$$A' = A|b = \left(\begin{array}{ccc|c} 2 & 7 & 5 & 0 \\ 1 & 2 & 1 & 3 \\ 0 & 1 & 1 & -2 \end{array} \right)$$

Com que $|A| = 0$ aleshores $\text{rang}(A) < 3$, però com que $\begin{vmatrix} 1 & 2 \\ 0 & 1 \end{vmatrix} = 1 \neq 0$, aleshores $\text{rang}(A) = 2$.

Com que $\begin{vmatrix} 2 & 7 & 0 \\ 1 & 2 & 3 \\ 0 & 1 & -2 \end{vmatrix} = -8 - 6 + 14 = 0$, aleshores $\text{rang}(A') = 2$

Com que $\text{rang}(A) = \text{rang}(A') = 2 < \text{nombre d'incògnites}$, aleshores el sistema es Compatible Indeterminat amb 1 (3-2=1) grau de llibertat.

- b) Cas $a = 2$

Substituïm el valor d' a i obtenim:

$$A' = A|b = \left(\begin{array}{ccc|c} 2 & 7 & 5 & 0 \\ 1 & 2 & 1 & 3 \\ 0 & 1 & 1 & -2 \end{array} \right)$$

Per aquest cas es tracta d'un sistema compatible indeterminat i, com s'ha vist, el sistema es pot reduir a les dues últimes equacions, ja que $\begin{vmatrix} 1 & 2 \\ 0 & 1 \end{vmatrix} = 1 \neq 0$ i $\text{rang } A = \text{rang } A' = 2$.

Aleshores, traspasant el terme en z al terme independent, el sistema equivalent a resoldre és

$$\begin{cases} x + 2y = 3 - z \\ y = -2 - z \end{cases}$$

que té per solució, $y = -2 - z$ i, substituint la variable y a la primera equació,

$x = 3 - z - 2(-2 - z) = 3 - z + 4 + 2z = 7 + z$ amb el que tenim les variables x i y en funció de la variable z que fa de paràmetre i dóna el grau de llibertat al conjunt de solucions.

Observació: El sistema es pot resoldre per qualsevol altre mètode.



Pautes de correcció:

a)

0,25 punts pels plantejament matricial i els valors crítics.

0,25 punts pel cas general.

0,25 punts pel primer cas particular.

0,25 punts pel segon cas particular.

b)

0,25 punts per la substitució.

0,25 punt per la identificació de compatible indeterminat.

0,25 punts per la solució y .

0,25 punts per la solució x .

Nota: La solució deixada en funció de qualsevol altre paràmetre o incògnita és també correcta.



4. Considereu la funció $f(x)$, que depèn dels paràmetres reals n i m i és definida per

$$f(x) = \begin{cases} e^x & \text{si } x \leq 0 \\ \frac{x^2}{4} + n & \text{si } 0 < x \leq 2 \\ \frac{3x}{2} + m & \text{si } x > 2 \end{cases}$$

- a) Calculeu els valors de n i m perquè la funció sigui contínua a tot el conjunt dels nombres reals.
[1 punt]
- b) Per al cas $n = -4$ i $m = -6$, calculeu l'àrea de la regió limitada per la gràfica de $f(x)$, l'eix de les abscisses i les rectes $x = 0$ i $x = 4$.
[1 punt]

Resolució:

a) La funció $f(x)$ està definida per trossos que són funcions contínues (exponencial i polinòmiques), per tant només cal estudiar la continuïtat en $x = 0$ i en $x = 2$.

Perquè $f(x)$ sigui contínua en $x = a$ és necessari que $\lim_{x \rightarrow a} f(x) = f(a)$.

$$\lim_{x \rightarrow 0} f(x) = \begin{cases} \lim_{x \rightarrow 0^-} e^x = 1 = f(0) \\ \lim_{x \rightarrow 0^+} \left(\frac{x^2}{4} + n \right) = n \end{cases}$$

i

$$\lim_{x \rightarrow 2} f(x) = \begin{cases} \lim_{x \rightarrow 2^-} \left(\frac{x^2}{4} + n \right) = 1 + n = f(2) \\ \lim_{x \rightarrow 2^+} \left(\frac{3}{2}x + m \right) = 3 + m \end{cases}$$

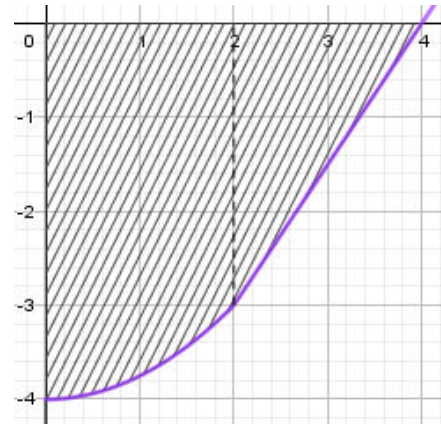
Aleshores per a ser contínua en els dos punts cal que $\left. \begin{matrix} n = 1 \\ 1 + n = 3 + m \end{matrix} \right\} \Rightarrow \begin{matrix} n = 1 \\ m = -1 \end{matrix}$

Per tant, si $n = 1$ i $m = -1$ la funció $f(x)$ és contínua per qualsevol nombre real.



b) Quan $n = -4$ i $m = -6$

$$f(x) = \begin{cases} e^x & \text{si } x \leq 0 \\ \frac{x^2}{4} - 4 & \text{si } 0 < x \leq 2 \\ \frac{3}{2}x - 6 & \text{si } x > 2 \end{cases}$$



Àrea

$$A = \left| \int_0^2 \left(\frac{x^2}{4} - 4 \right) dx \right| + \left| \int_2^4 \left(\frac{3}{2}x - 6 \right) dx \right| = \left| \left(\frac{x^3}{12} - 4x \right) \Big|_0^2 \right| + \left| \left(\frac{3x^2}{4} - 6x \right) \Big|_2^4 \right| = \left| \frac{2}{3} - 8 \right| + \left| -3 \right| = \frac{31}{3} u^2$$

Observació: Evidentment també es pot calcular l'àrea del segon tros com l'àrea del triangle.

Pautes de correcció:

a)

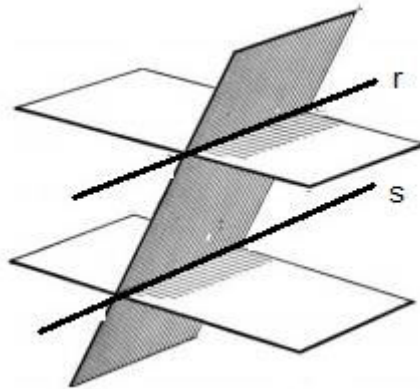
- 0,25 punts per la continuïtat general.
- 0,25 punts per la condició de continuïtat en $x = 0$.
- 0,25 punts per la condició de continuïtat en $x = 2$.
- 0,25 punts pel càlcul correcte dels valors de n i de m .

b)

- 0,25 punts per la substitució de paràmetres.
- 0,25 punts pel plantejament de les integrals.
- 0,25 punts pel càlcul de les primitives.
- 0,25 punts per l'aplicació de la regla de Barrow i el càlcul final.



5. Considereu els plans $\pi_1: 2x + ay + z = 5$, $\pi_2: x + ay + z = 1$ i $\pi_3: 2x + (a + 1)y + (a + 1)z = 0$, en què a és un paràmetre real.
- a) Estudieu per a quins valors del paràmetre a els tres plans es tallen en un punt.
[1 punt]
- b) Comproveu que per al cas $a = 1$ la interpretació geomètrica del sistema format per les equacions dels tres plans és la que es mostra en la imatge següent:



[1 punt]

Resolució:

- a) Perquè els tres plans es tallin en un punt la matriu del sistema format per les tres equacions ha de ser compatible determinat. Cal que la matriu M del sistema tingui rang 3. Llavors la matriu ampliada també tindrà rang 3 i per tant el sistema serà compatible determinat.

$$M = \begin{vmatrix} 2 & a & 1 \\ 1 & a & 1 \\ 2 & a+1 & a+1 \end{vmatrix} = 2a(a+1) + 2a + a + 1 - 2a - 2(a+1) - a(a+1) \\ = 2a^2 + 2a + 2a + a + 1 - 2a - 2a - 2 - a^2 - a = a^2 - 1$$

rang $M = 3$ quan $a^2 - 1 \neq 0$, és a dir $a \neq \pm 1$. En aquests casos els tres plans es tallen en un punt.

- b) La situació representada mostra dos plans paral·lels i un altre que els talla.

En el cas $a = 1$ tenim:



Criteris de correcció

Matemàtiques

$$\left. \begin{array}{l} 2x + y + z = 5 \\ x + y + z = 1 \\ 2x + 2y + 2z = 0 \end{array} \right\} \text{En aquest cas els plans } \pi_2 \text{ i } \pi_3 \text{ són paral·lels i diferents ja}$$

que

$$\frac{1}{2} = \frac{1}{2} = \frac{1}{2} \neq \frac{1}{0}$$

i no paral·lels amb el pla π_1 perquè

$$\frac{2}{1} \neq \frac{1}{1} = \frac{1}{1}$$

per tant, el pla π_1 els tallarà de manera que s'obtindrà, efectivament, la situació geomètrica de la figura.

Pautes de correcció:

a)

0,25 punts pel plantejament del sistema d'equacions lineals.

0,25 punts pel càlcul del determinant.

0,25 punts per la resolució de la igualtat.

0,25 punts per la identificació del cas SCD.

b)

0,5 punts per la justificació que els plans π_2 i π_3 són paral·lels i diferents.

0,5 punts per la justificació que el pla π_1 no és paral·lel amb els altres dos i els talla en rectes paral·leles. No cal que l'estudiant comprovi que el vector director de la recta r i el de la recta s són proporcionals.



Criteris de correcció

Matemàtiques

6. Sabem que una funció $f(x)$ és contínua i derivable a tots els nombres reals, que té com a derivada segona $f''(x) = 6x$ i que la recta tangent en el punt d'abscissa $x = 1$ és horitzontal.

a) Determineu l'abscissa dels punts d'inflexió de la funció f i els intervals de concavitat i convexitat. Justifiqueu que la funció f té un mínim relatiu en $x = 1$.
[1 punt]

b) Sabent, a més, que la recta tangent en el punt d'abscissa $x = 1$ és $y = 5$, calculeu l'expressió de la funció f .
[1 punt]

Resolució:

a) L'únic candidat a punt d'inflexió és el punt que anul·la la derivada segona, $x = 0$ i per estudiar els intervals de concavitat i convexitat només cal considerar els intervals $(-\infty, 0)$ i $(0, \infty)$.

Com que $f''(x) < 0$ per $x < 0$ i $f''(x) > 0$ per $x > 0$ deduïm que la funció f és convexa (\cap) en $(-\infty, 0)$ i còncava (\cup) en $(0, \infty)$.

Observació: En cas de conflicte entre la terminologia i el grafisme prevaldrà la resposta gràfica.

Per tant la funció té un únic punt d'inflexió en $x = 0$.

D'altra banda, sabem que $f'(1) = 0$ ja que la recta tangent en $x = 1$ és horitzontal.

Com $f''(1) = 6 > 0$ deduïm que es tracta d'un mínim relatiu de la funció.

b) Com $f''(x) = 6x$ tenim que integrant que $f'(x) = 3x^2 + c$, on c és una constant real. Ara bé, sabem que en $x = 1$ la recta tangent és horitzontal, així que $f'(1) = 0$. Substituint a l'expressió anterior obtenim que $c = -3$.

Integrant de nou deduïm que $f(x) = x^3 - 3x + k$, on k és una constant real. Com la recta tangent en $x = 1$ és $y = 5$, cal que $f(1) = 5$.

Això ens permet trobar el valor de la constant k :

$$f(1) = 1 - 3 + k = 5$$

d'on $k = 7$ i la funció buscada és $f(x) = x^3 - 3x + 7$.



Pautes de correcció:

a)

0,25 punts per identificar l'abscissa $x = 0$.

0,25 punts pels intervals de convexitat/concavitat

0,25 punts per identificar el punt singular.

0,25 punts per justificar que és mínim relatiu.

b)

0,25 punts per la primera primitiva.

0,25 punts pel càlcul de la primera constant d'integració

0,25 punts per la segona primitiva.

0,25 punts pel càlcul de la segona constant d'integració.