



## Proves d'accés a la universitat

Convocatòria 2016

# Tecnologia industrial

## Sèrie 1

La prova consta de dues parts de dos exercicis cadascuna. La primera part és comuna i la segona té dues opcions (A i B). Resoleu els exercicis de la primera part i, per a la segona part, escolliu UNA de les dues opcions (A o B) i feu els exercicis de l'opció triada.

### PRIMERA PART

#### Exercici 1

[2,5 punts]

[En cada qüestió només es pot triar UNA resposta. Qüestió ben contestada: 0,5 punts; qüestió mal contestada: -0,16 punts; qüestió no contestada: 0 punts.]

#### Qüestió 1

En un motor asíncron de corrent altern de quatre parells de pols, que està connectat a la xarxa de tensió  $U = 230 \text{ V}$  i freqüència  $f = 50 \text{ Hz}$ , la velocitat de sincronisme és

- a)  $750 \text{ min}^{-1}$ .
- b)  $1800 \text{ min}^{-1}$ .
- c)  $1500 \text{ min}^{-1}$ .
- d)  $3000 \text{ min}^{-1}$ .

#### Qüestió 2

La fabricació d'una peça es duu a terme en dos processos: el primer en una fresadora i el segon en una rectificadora. Després de cada procés, es controla la qualitat de les peces i es desestimen les que no són correctes. D'un total inicial de 1 500 peces, se n'han desestimat 75 després del fresatge i 6 després de la rectificació. Quina és la taxa de rebuig del procés de rectificació?

- a) 8 %
- b) 0,42 %
- c) 0,40 %
- d) 5,4 %

**Qüestió 3**

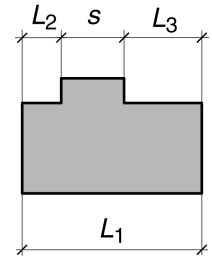
Un aliatge de coure, que s'utilitza per a elèctrodes de soldadura, conté un 96,9 % de coure (Cu), un 2,5 % de cobalt (Co) i un 0,6 % de berilli (Be). Amb 500 kg de coure, quina quantitat de cobalt cal per a obtenir aquest aliatge?

- a) 96,9 kg
- b) 12,50 kg
- c) 12,90 kg
- d) 2,5 kg

**Qüestió 4**

En un plànotl s'acoten les mides  $L_1$ ,  $L_2$  i  $L_3$ . Si es vol que la tolerància de l'amplària  $s$  sigui de  $\pm 150 \mu\text{m}$ , quina tolerància general cal indicar?

- a)  $\pm 50 \mu\text{m}$
- b)  $\pm 150 \mu\text{m}$
- c)  $\pm 300 \mu\text{m}$
- d)  $\pm 100 \mu\text{m}$



**Qüestió 5**

Es mesura diverses vegades el temps que tarda un tren a recórrer un tram de 10 km i s'obtenen els temps següents: 11,23 min, 9,61 min, 10,47 min i 9,86 min. Seria correcte dir que el temps obtingut en el procés de mesurament ha estat de 10,29 min?

- a) No, el resultat hauria de ser el valor més baix obtingut.
- b) Sí, ja que és el valor mitjà de les mesures.
- c) Sí, ja que es troba entre els marges dels valors obtinguts.
- d) No, caldria donar el resultat amb menys xifres decimals.

**Exercici 2**

[2,5 punts en total]

Un climatitzador automàtic posa en marxa el mode «aire condicionat» si la temperatura interior del vehicle és superior a la temperatura de consigna  $T_c$ , sempre que la temperatura de consigna sigui més de  $3^\circ\text{C}$  inferior a la temperatura exterior del vehicle. El sistema també té un sensor que apaga l'aire condicionat si detecta que hi ha alguna finestra oberta. Responen a les qüestions que hi ha a continuació utilitzant les variables d'estat següents:

$$\text{temperatura interior: } i = \begin{cases} 1: \text{ si } T_{\text{interior}} > T_c \\ 0: \text{ si } T_{\text{interior}} \leq T_c \end{cases}; \text{ temperatura exterior: } e = \begin{cases} 1: \text{ si } T_c \geq T_{\text{exterior}} - 3^\circ\text{C} \\ 0: \text{ si } T_c < T_{\text{exterior}} - 3^\circ\text{C} \end{cases};$$

$$\text{finestres: } f = \begin{cases} 1: \text{ obertes} \\ 0: \text{ tancades} \end{cases}; \text{ aire condicionat: } ac = \begin{cases} 1: \text{ engegat} \\ 0: \text{ apagat} \end{cases}$$

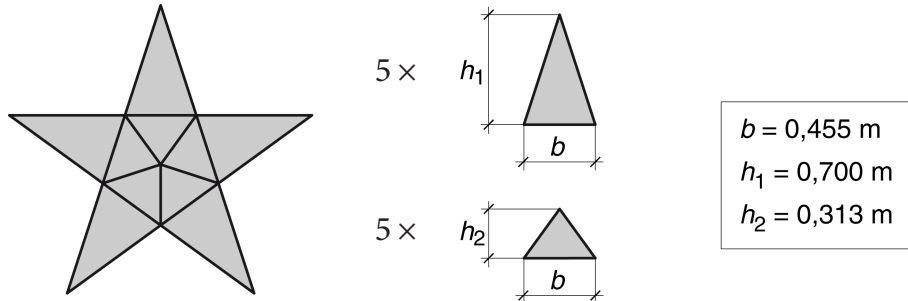
- a) Escriviu la taula de veritat del sistema. [1 punt]
- b) Determineu la funció lògica entre aquestes variables  $i$ , si escau, simplifiqueu-la. [1 punt]
- c) Dibuixeu l'esquema de portes lògiques equivalent. [0,5 punts]

SEGONA PART

OPCIÓ A

Exercici 3

[2,5 punts en total]



Es vol construir una estrella com la de la figura a partir d'un tauler de fusta. La botiga en calcula el cost segons l'expressió  $c = c_1 s + c_2 p$ , en què  $s$  és la superfície de fusta utilitzada i  $p$  és el perímetre de les peces tallades. El primer coeficient de cost és  $c_1 = 10 \text{ €/m}^2$  i l'altre coeficient de cost és  $c_2 = 0,5 \text{ €/m}$  si el perfil és senzill (com, per exemple, un triangle) o és  $c_2 = 1,3 \text{ €/m}$  si el perfil és complex (com, per exemple, una estrella). Determineu:

- a) La superfície  $s$  de fusta utilitzada. [0,5 punts]
- b) El perímetre tallat  $p_1$  si es construeix a partir de triangles com els de la figura. [1 punt]
- c) El perímetre tallat  $p_2$  si es construeix tallant el perfil exterior de l'estrella. [0,5 punts]
- d) El cost de cadascuna de les opcions. Quina és la més econòmica? [0,5 punts]

Exercici 4

[2,5 punts en total]

Els llums antiboira d'un automòbil consumeixen un corrent  $I_b = 10,22 \text{ A}$  quan s'alimenten directament a  $12 \text{ V}$ . La bateria i els llums es connecten amb un cable bipolar que té una longitud  $L = 3 \text{ m}$  i és de coure de resistivitat  $\rho = 1,7 \times 10^{-8} \text{ }\Omega \text{ m}$ . El circuit s'alimenta amb una bateria de tensió  $U = 12 \text{ V}$ . Si es vol que la caiguda de tensió en el cable no sigui superior al 3 %, determineu:

- a) La secció mínima que ha de tenir el cable. [1 punt]

Si s'utilitza un cable de secció  $S = 4 \text{ mm}^2$ , determineu:

- b) La resistència del cable  $R_{\text{cable}}$ . [0,5 punts]
- c) La potència que consumeixen conjuntament el cable i els llums. [1 punt]

**OPCIÓ B**

**Exercici 3**

[2,5 punts en total]

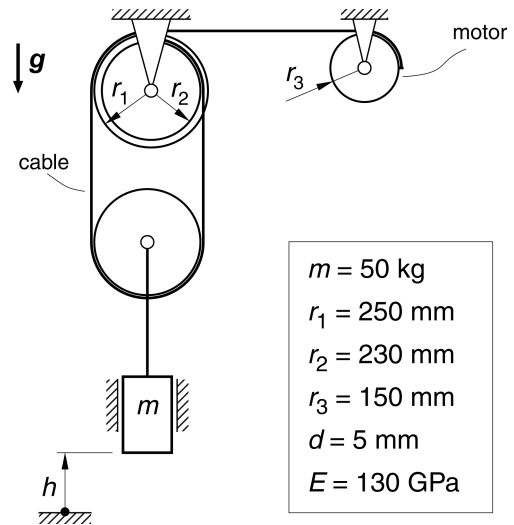
El sistema de la figura s'utilitza per a fer pujar un bloc de massa  $m = 50 \text{ kg}$ . La relació entre la variació d'altura  $\Delta h$  del bloc i l'angle girat pel motor  $\varphi_{\text{motor}}$  és:

$$\Delta h = \varphi_{\text{motor}} \frac{(r_1 - r_2)r_3}{2r_1}$$

El cable utilitzat és de secció circular, amb un diàmetre  $d = 5 \text{ mm}$ , i té un mòdul d'elasticitat  $E = 130 \text{ GPa}$ .

Quan el bloc puja a velocitat constant, determineu:

- a) La tensió  $\sigma_n$  i la deformació  $\epsilon$  normals del cable indicat en la figura. [1 punt]
- b) L'allargament del cable  $\Delta L$ , si la llargària lliure del cable sense el bloc penjat és  $L = 2\,000 \text{ mm}$ . [0,5 punts]
- c) El parell  $\Gamma$  que desenvolupa el motor. [1 punt]



**Exercici 4**

[2,5 punts en total]

El parell motor  $\Gamma$  d'un motor de corrent continu i la intensitat  $I$  del corrent que hi circula són donats per les expressions següents, en què  $U$  és la tensió d'alimentació,  $\omega$  és la velocitat angular de l'eix,  $R = 0,03 \Omega$  i  $c = 0,02 \text{ N m/A}$ .

$$\Gamma = cI$$

$$I = \frac{U - c\omega}{R}$$

Quan la intensitat  $I$  és de  $50 \text{ A}$ , la potència que consumeix el motor és de  $600 \text{ W}$ .

Determineu:

- a) La tensió d'alimentació  $U$  del motor quan  $I = 50 \text{ A}$ . [0,5 punts]

Si el motor s'alimenta amb la tensió obtinguda en l'apartat anterior:

- b) Determineu la velocitat angular  $\omega$  de l'eix del motor quan  $I = 100 \text{ A}$ . [1 punt]
- c) Dibuixeu, d'una manera aproximada i indicant les escales, la corba del rendiment en funció de la velocitat de gir per a  $0 \leq \omega \leq 600 \text{ rad/s}$ . [1 punt]