

OPCIÓ A

EXERCICI 1 [5 punts]

Llegiu el text següent i responeu a les qüestions.

El desenvolupament turístic ha comportat la transformació funcional del territori i la transformació dels paisatges preexistents a l'eix costaner català. Alhora, la construcció de nous nuclis i l'expansió dels existents ha suposat una modificació dels assentaments i de l'estructura urbana, l'impacte dels quals s'observa nítidament a escala comarcal i local i que, en conjunt, ha donat lloc a un continu urbà al llarg de tot el litoral, interromput només per la presència de sectors de costa alta i penya-segats.

Un altre efecte del turisme com a factor d'urbanització ha estat l'extensió del sistema de vida urbà a l'espai rural a partir de la difusió cap a l'interior i cap a la muntanya dels assentaments turístics, tant en construcció compacta com en urbanització horitzontal, cosa que també ha provocat la dinamització social i econòmica d'aquests llocs. També ha comportat el manteniment, la recuperació i la rehabilitació d'una part del patrimoni edificat que s'havia abandonat com a resultat del despoblament (cases abandonades que són ocupades com a residències secundàries).

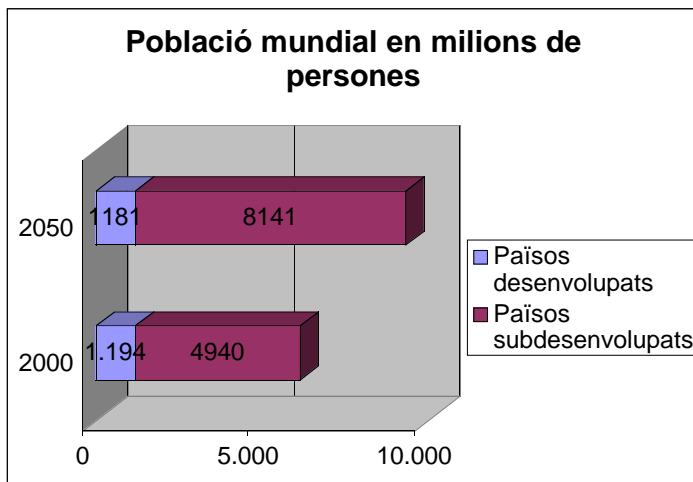
Font: MAJORAL, R., *Un anàlisi territorial*, Ariel Geografia, 2002

1. Identifiqueu les idees principals del text. [1 punt]
2. Citeu tipus de turisme alternatiu al turisme de masses i establiu les diferències entre aquest darrer i altres tipus de turisme. [1,5 punts]
3. Feu una breu exposició sobre el turisme a Catalunya seguint el següent esquema: característiques generals, procedència, distribució territorial, impacte ambiental i importància econòmica. [2,5 punts]

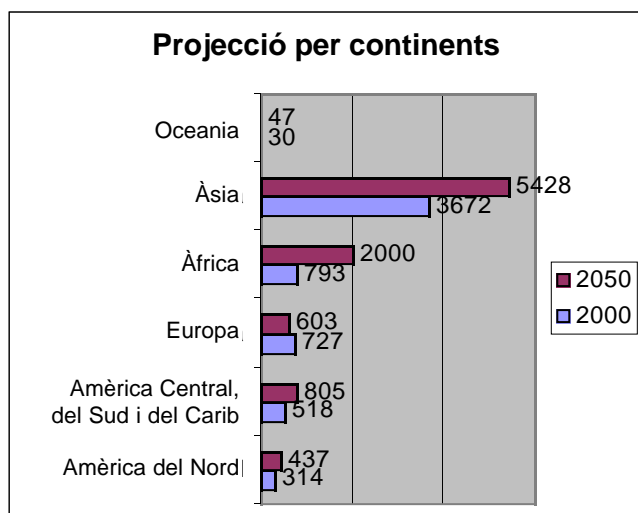
EXERCICI 2 [5 punts]

Observeu els gràfics següents i responeu a les qüestions.

PROJECCIÓ DEL CREIXEMENT DE LA POBLACIÓ MUNDIAL



Total de la població l'any 2000: 6.134 milions



Total de la població l'any 2050: 9.322 milions

Font: Nacions Unides, 2001

1. Descriviu les informacions que proporcionen aquests gràfics i indiqueu quin serà el continent amb més creixement demogràfic en el futur i quin presentarà un creixement negatiu. [1 punt]
2. Expliqueu què s'entén per projecció demogràfica, quins elements s'han de tenir en compte per realitzar-la, i quina utilitat pot tenir fer una projecció d'aquest tipus. [1,5 punts]
3. Exposeu les diferents fases del que s'ha anomenat *model de transició demogràfica*, és a dir, de l'evolució demogràfica d'Occident al llarg de la història. [2,5 punts]

OPCIÓ B

EXERCICI 1 [5 punts]

Llegiu el text següent i responeu a les qüestions.

Més de la meitat dels recursos petrolers –el 65% exactament– es troben al golf Pèrsic. L'Aràbia Saudita disposa del 25% d'aquests recursos; l'Iraq del 10,7%, Kuwait del 9,7%, i l'Iran del 8,5%. Als Estats Units només els queda actualment el 6,1%. A Europa l'1,8%.

Al golf Pèrsic, a més, aquests recursos són per a uns 86,8 anys, mentre que als Estats Units el seu 6,1% només és per als propers 13 anys i als europeus únicament ens arribaran per a 7 o 8 anys.

A la resta del món, els recursos existents no arriben a equilibrar la balança a favor dels països musulmans. Així, a l'antiga URSS es disposa del 7,8% del global, per a 21 anys; a l'Àfrica del 7,3%, per a 27 anys; a Llatinoamèrica del 9,1%, per a 38 anys; i a la regió Àsia-Pacífic del 4,2%, per a 15 anys.

Amb el gas, el panorama és bastant semblant, a excepció de l'antiga URSS, on hi ha el 36,2% dels recursos, però encara segueix per sota de l'Orient Mitjà. L'explotació i la comercialització d'aquests recursos dependrà, d'altra banda, de l'estabilitat d'una regió que encara planteja molts interrogants sobre el seu futur.

Amb aquesta situació, la conclusió resulta evident: actualment, el graner energètic del món continua sent l'Orient Mitjà. I les rutes d'accés a aquests recursos, així com les estratègies per aconseguir-los, probablement tenen més a veure amb les guerres que s'anuncien que amb les declaracions de principis.

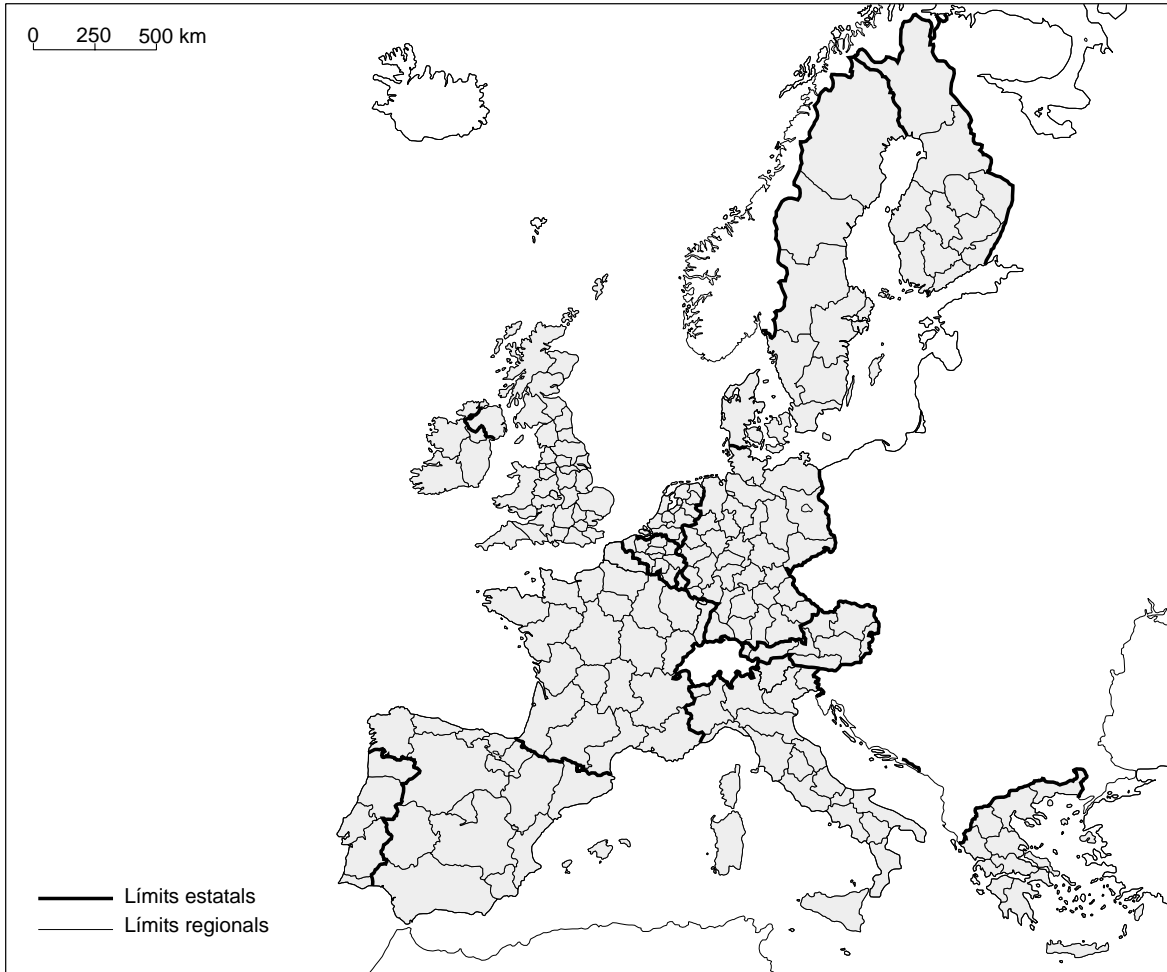
Font: Bru ROVIRA, *La Vanguardia*, 13-10-2002

1. Identifiqueu les idees principals del text. [1 punt]
2. Esmenteu les principals fonts d'energia **no** renovables i indiqueu alguns dels problemes que planteja el seu ús. [1,5 punts]
3. Feu una breu exposició de l'ús de fonts energètiques renovables en el moment actual a escala mundial seguint l'esquema següent: quines són, quines són les més utilitzades, avantatges i problemes que comporta el seu ús i la seva capacitat per substituir les actuals fonts energètiques no renovables. [2,5 punts]

EXERCICI 2 [5 punts]

Observeu el mapa següent i responeu a les qüestions.

ELS ESTATS I LES REGIONS DE LA UNIÓ EUROPEA



1. Descriviu la informació que proporciona el mapa i enumereu els països membres de la Unió Europea en l'actualitat. [1 punt]
2. Indiqueu amb quina escala de l'organització territorial de l'Estat espanyol es corresponen les regions europees i enuncieu les principals característiques de la política regional europea. [1,5 punts]
3. Expliqueu quines són les principals institucions polítiques de la Unió Europea i quines funcions aconsegueixen. Esmenteu alguns dels països que properament s'integraran en aquesta organització. [2,5 punts]