



## Proves d'Accés a la Universitat. Curs 2010-2011

### Geografia

#### Sèrie 2

Escolliu UNA de les dues opcions (A o B).

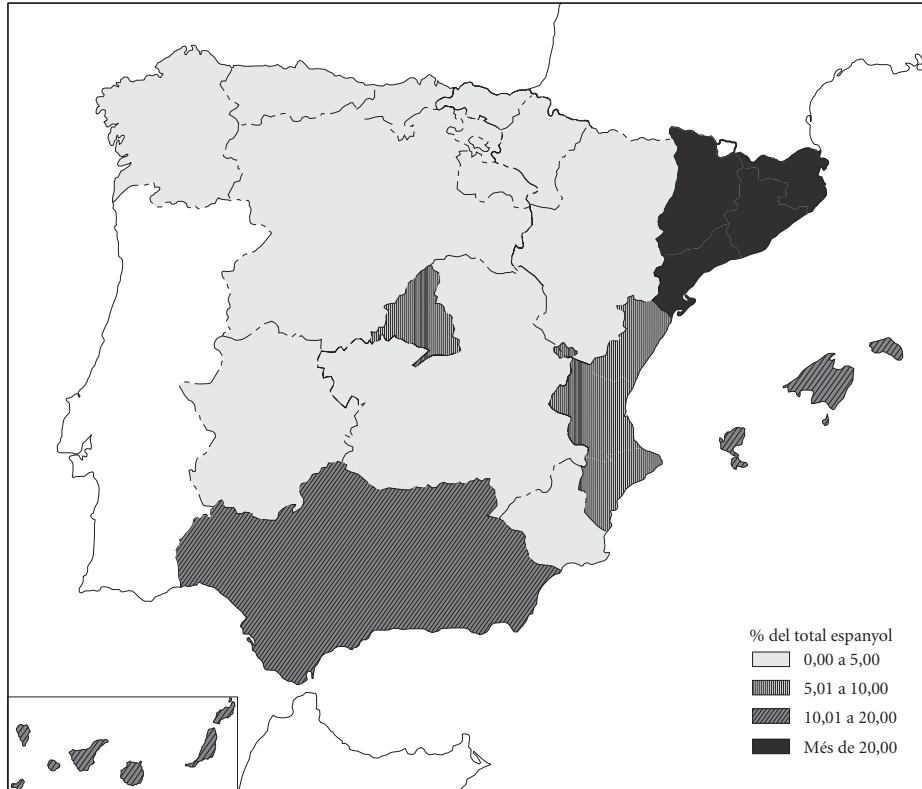
#### OPCIÓ A

##### Exercici 1

[5 punts]

Observeu el mapa següent i responeu a les qüestions plantejades.

*Turistes estrangers per destinació principal (2008)*



FONT: Instituto Nacional de Estadística (INE), 2008.

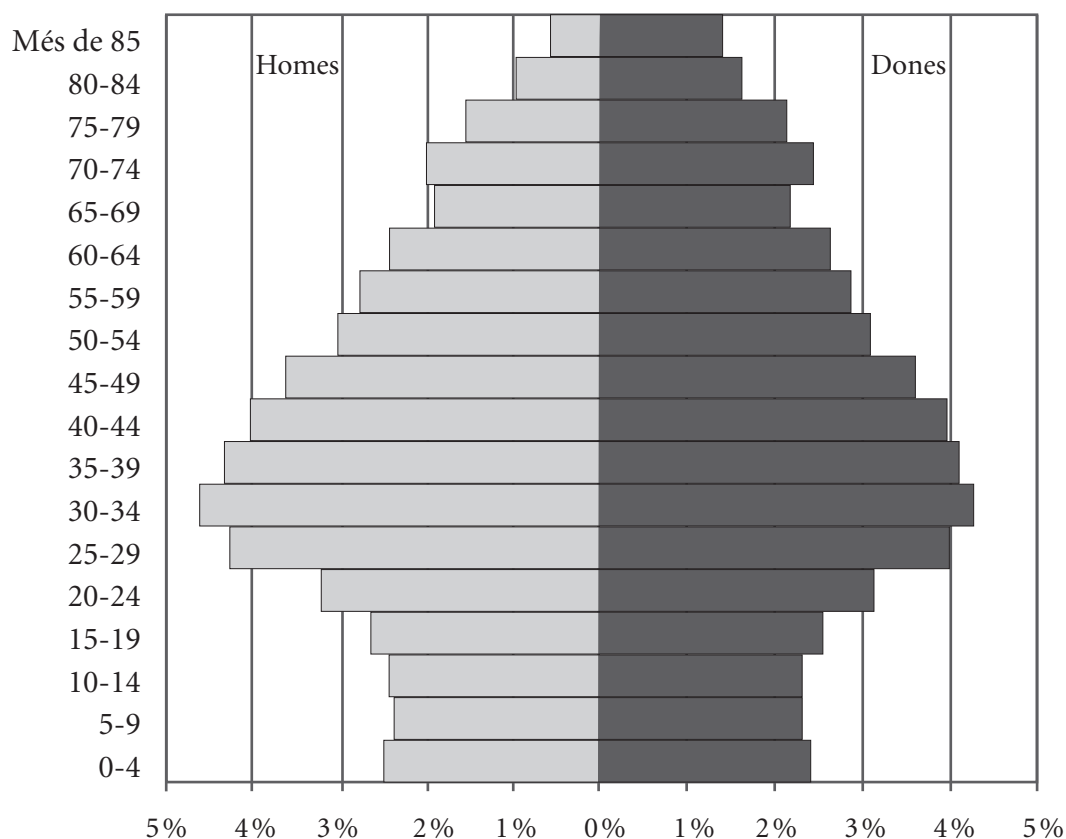
1. Descriviu la informació representada en el mapa.  
[1 punt]
2. Definiu els conceptes *turisme interior* i *estacionalitat turística*.  
[1 punt]
3. Expliqueu quines són les zones turístiques més importants d'Espanya i quins atractius ofereixen. Quins són els principals països de procedència dels turistes?  
[1,5 punts]
4. A més del turisme de sol i platja, quins altres tipus de turisme hi ha actualment? Quins són els principals impactes econòmics del turisme a Espanya?  
[1,5 punts]

## Exercici 2

[5 punts]

Observeu el gràfic següent i responeu a les qüestions plantejades.

*Piràmide de població d'Espanya (2007)*



FONT: Instituto Nacional de Estadística (INE). Cens de població de l'1 de gener de 2007.

1. Descriviu la informació representada en el gràfic.  
[1 punt]
2. Definiu els conceptes *estructura de la població* i *esperança de vida*.  
[1 punt]
3. Expliqueu les causes de les diferències que s'observen entre les dones i els homes en els grups d'edat següents:
  - a) De 0 a 4 anys.
  - b) De 20 a 40 anys.
  - c) Més de 65 anys.
 [1,5 punts]
4. Exposeu les característiques actuals de la natalitat, la fecunditat i la mortalitat en la població espanyola. Valoreu les conseqüències socioeconòmiques de l'evolució demogràfica actual de la població d'Espanya.  
[1,5 punts]

## OPCIÓ B

### Exercici 1

[5 punts]

Observeu el mapa següent i responeu a les qüestions plantejades.

*Distribució mundial de les reserves provades de gas natural (2007)*



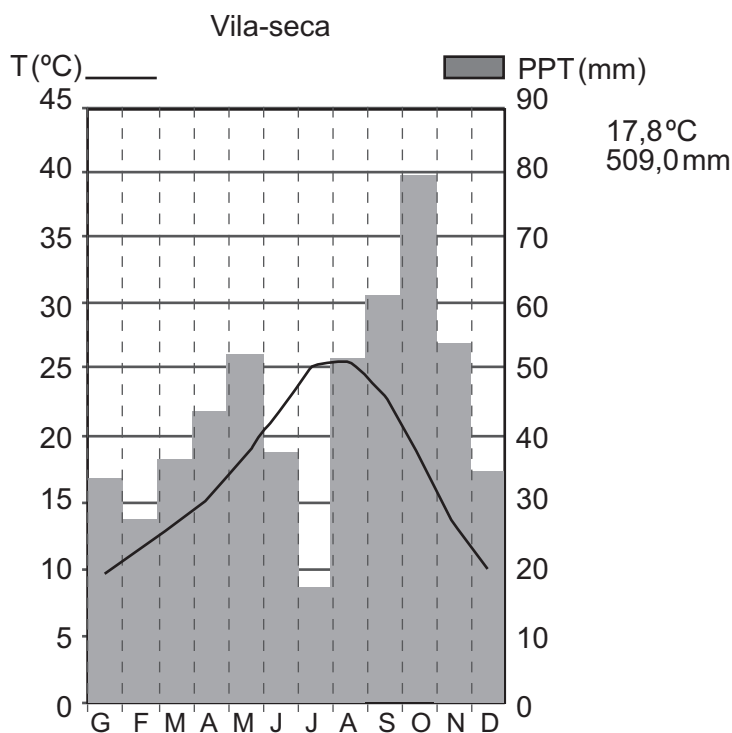
FONT: Institut Europeu de la Mediterrània [en línia], 2009. <[www.iemed.org/anuari/2009/amapes/a306.pdf](http://www.iemed.org/anuari/2009/amapes/a306.pdf)>

1. Descriviu la informació representada en el mapa.  
[1 punt]
2. Definiu els conceptes *combustible fòssil* i *recurs no renovable*. Escriviu tres exemples per a cada definició.  
[1 punt]
3. **a)** Com es transporta el gas natural des de les regions productores fins als països consumidors? Quins problemes comporta aquest transport?  
**b)** Esmenteu el nom dels cinc països que tenen més reserves de gas natural.  
[1,5 punts]
4. **a)** Exposeu els avantatges i els inconvenients del gas natural com a font energètica.  
**b)** En el marc de la problemàtica energètica mundial, es pot considerar el gas natural el substitutiu del petroli? Argumenteu la resposta.  
[1,5 punts]

## Exercici 2

[5 punts]

Observeu el gràfic següent i responeu a les qüestions plantejades.



FONT: Servei Meteorològic de Catalunya, 2010.

1. Descriviu la informació que proporciona el gràfic.  
[1 punt]
2. Definiu els conceptes *aridesa* i *amplitud tèrmica*.  
[1 punt]
3. **a)** Expliqueu l'evolució estacional de les temperatures i de les precipitacions a Vila-seca.  
**b)** A quin tipus climàtic correspon aquest gràfic? Per què?  
**c)** Quin tipus de vegetació predomina en aquest clima?  
[1,5 punts]
4. Expliqueu els factors principals que condicionen el clima d'un territori.  
[1,5 punts]





