

Geografia

Sèrie 1

Escolliu UNA de les dues opcions (A o B).

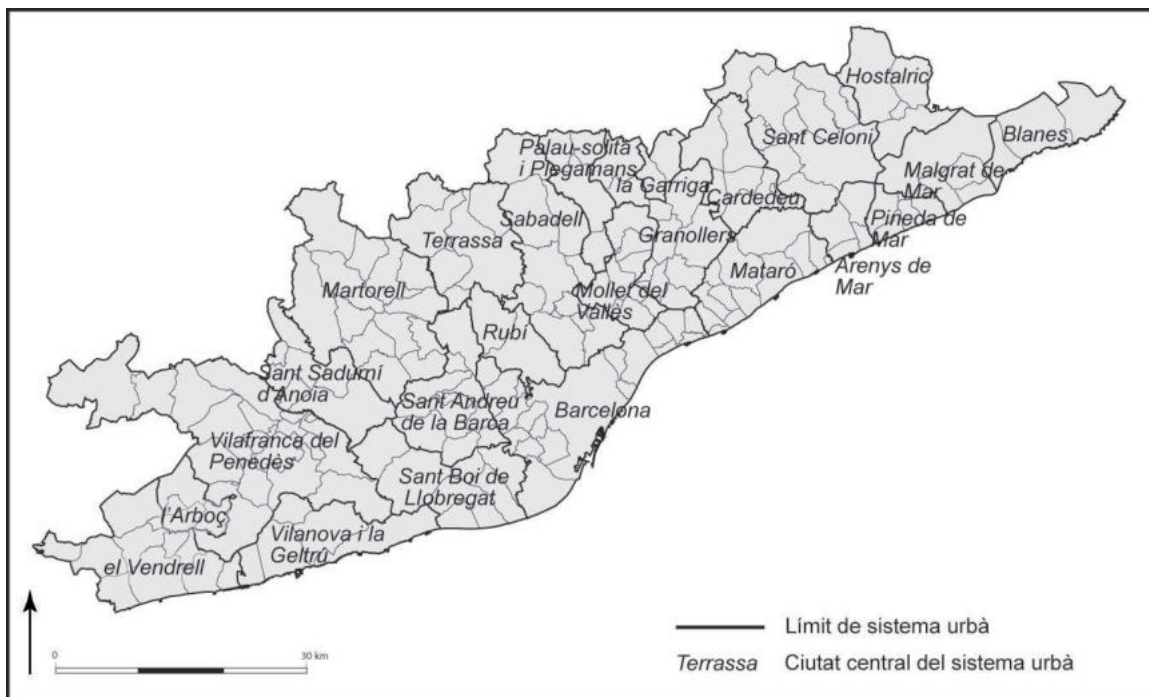
OPCIÓ A

Exercici 1

[5 punts en total]

Observeu el mapa següent i responeu a les qüestions plantejades.

Sistemes urbans en el sistema metropolità de Barcelona (2012)



FONT: J. ROCA, M. MOIX i B. ARELLANO. «El sistema urbano en España». *Scripta Nova* [en línia] [Barcelona: Universitat de Barcelona], vol. XVI, núm. 396 (2012).

1. Descriviu la informació representada en el mapa i indiqueu quines divisions administratives hi són visibles.
[1 punt]
2. Definiu els termes *densitat de població* i *àrea metropolitana*.
[1 punt]

3. Descriuiu les grans regions urbanes tenint en compte els aspectes següents:
 - Quins són els trets característics de les grans regions urbanes?
 - En què consisteixen l'especialització i la dependència que es genera entre els nuclis urbans que formen aquestes regions?
 - Quines dues àrees es poden diferenciar dins de la regió metropolitana de Barcelona?
 [1,5 punts]

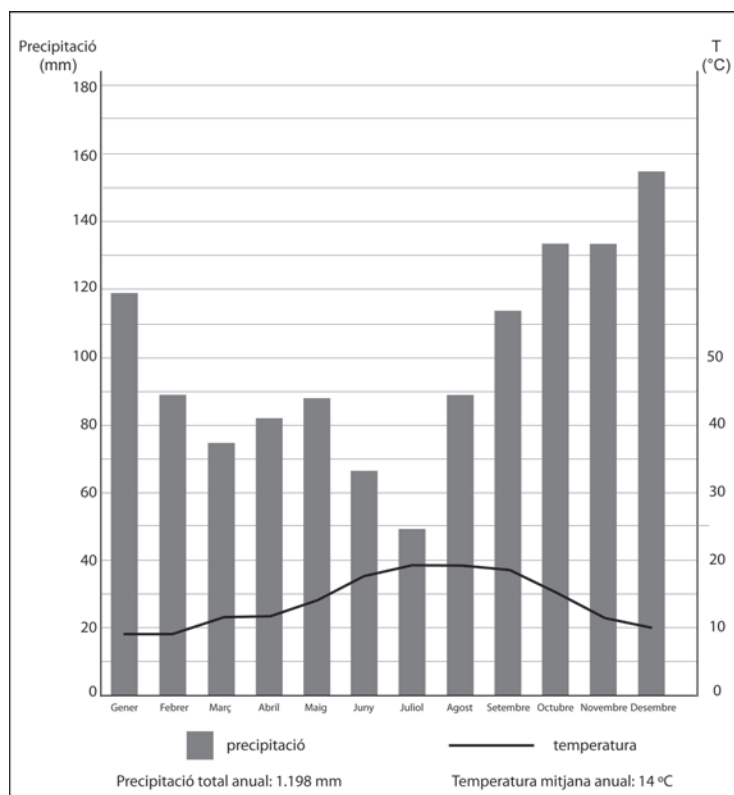
4. Expliqueu les característiques de la xarxa urbana espanyola tenint en compte els aspectes següents:
 - Quines àrees metropolitanes encapçalen el primer nivell de la jerarquia urbana espanyola?
 - Quina és la zona d'Espanya on es troba el sistema o eix urbà peninsular amb un nombre més gran d'habitants i de ciutats, i també amb una densitat de població més alta?
 - Quines són les principals funcions urbanes que es desenvolupen a les ciutats?
 [1,5 punts]

Exercici 2

[5 punts en total]

Observeu el gràfic següent i responeu a les qüestions plantejades.

Climograma de Santander (66 m)



FONT: Elaboració pròpia a partir de les dades de l'Agència Estatal de Meteorologia.

1. Descriuiu la informació representada en el gràfic.
[1 punt]

2. Definiu els termes *precipitació* i *amplitud tèrmica*.
[1 punt]

3. Observeu el gràfic i exposeu quines són les característiques que defineixen el clima temperat oceànic (o atlàntic). Indiqueu també el nom de tres capitals de província que tinguin aquest clima.
[1,5 punts]
4. Quines àrees de Catalunya estan sota la influència del clima temperat oceànic (o atlàntic)? Expliqueu les característiques del paisatge vegetal d'aquestes àrees, i els tipus de conreus i altres activitats agropecuàries que hi tenen lloc.
[1,5 punts]

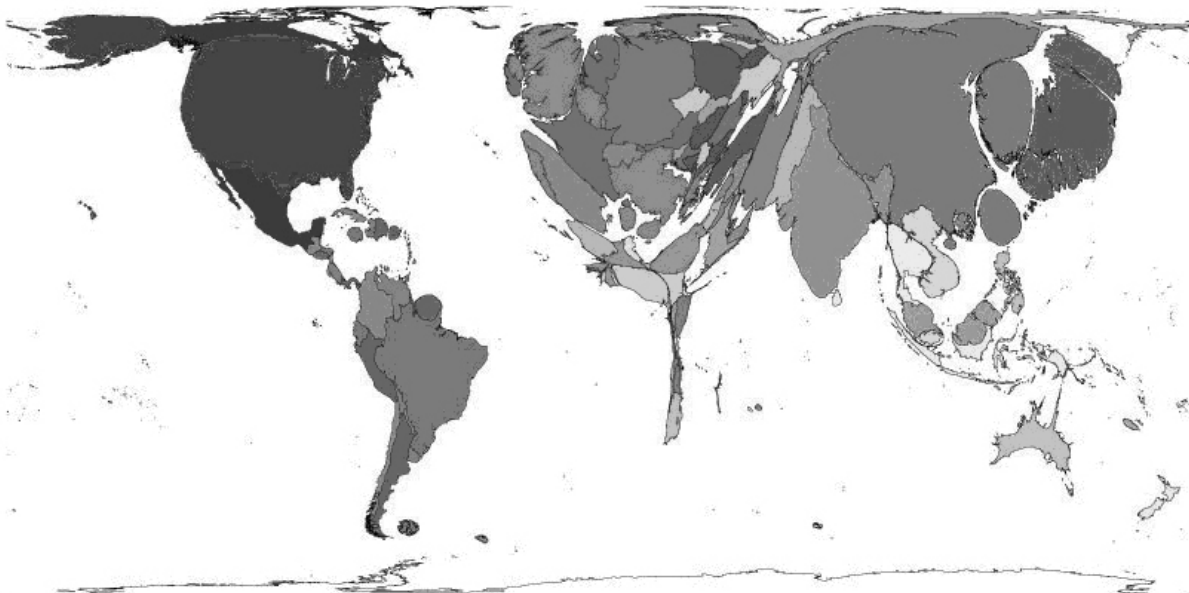
OPCIÓ B

Exercici 1

[5 punts en total]

Observeu el mapa següent i responeu a les qüestions plantejades.

Nombre d'usuaris d'Internet (2007)



FONT: *Worldmapper* [en línia].

NOTA: Els tons de gris només serveixen per a diferenciar els països.

1. Descriviu la informació representada en el mapa.
[1 punt]
2. Definiu els termes *globalització econòmica* i *països BRIC*.
[1 punt]
3. Expliqueu les característiques de la societat postindustrial tenint en compte els aspectes següents:
 - Es poden considerar sinònims els termes *país industrialitzat* i *país desenvolupat*? Justifiqueu la resposta.
 - Quina és la funció de les noves tecnologies en la societat postindustrial?
 - Quins són els objectius dels processos de deslocalització de la producció industrial?
 [1,5 punts]

4. Exposeu les principals conseqüències mediambientals, polítiques i culturals del procés de globalització.

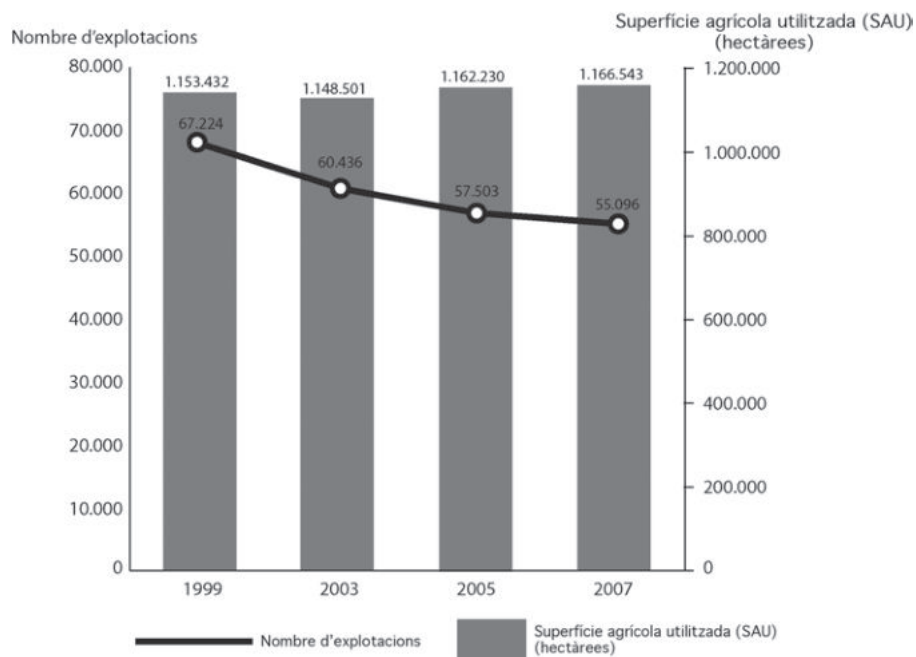
[1,5 punts]

Exercici 2

[5 punts en total]

Observeu el gràfic següent i responeu a les qüestions plantejades.

*Nombre d'explotacions agràries
i superfície agrícola utilitzada (SAU) a Catalunya (1999-2007)*



FONT: INSTITUT D'ESTADÍSTICA DE CATALUNYA. *Dossiers Idescat*, núm. 2 (juny 2009).

1. Descriuiu la informació representada en el gràfic.
[1 punt]
2. Definiu els termes *població agrària* i *parceria*.
[1 punt]
3. Responen a les qüestions següents relacionades amb les dades representades en el gràfic:
[1,5 punts]
 - a) Quines són les causes del descens del nombre d'explotacions agràries?
 - b) Per què la superfície agrícola utilitzada (SAU) ha augmentat? Quines conseqüències comporta aquest augment de superfície?
4. Exposeu les característiques del sector agrari a Catalunya tenint en compte els aspectes següents:
 - Com participa el sector agrari en l'economia catalana?
 - Quin és el règim de tinença de la terra i quines són les dimensions de les explotacions?
 - Què són els contractes d'integració ramadera?

[1,5 punts]