

Proves d'accés a la universitat

Geografia

Sèrie 2

Opció d'examen

(Marqueu el quadre de l'opció triada)

OPCIÓ A



OPCIÓ B



Qualificació		
Exercici 1	1	
	2	
	3	
	4	
Exercici 2	1	
	2	
	3	
	4	
Suma de notes parcials		
Qualificació final		

Etiqueta identificadora de l'alumne/a

Etiqueta de qualificació

Ubicació del tribunal

Número del tribunal

Escolliu UNA de les dues opcions (A o B).

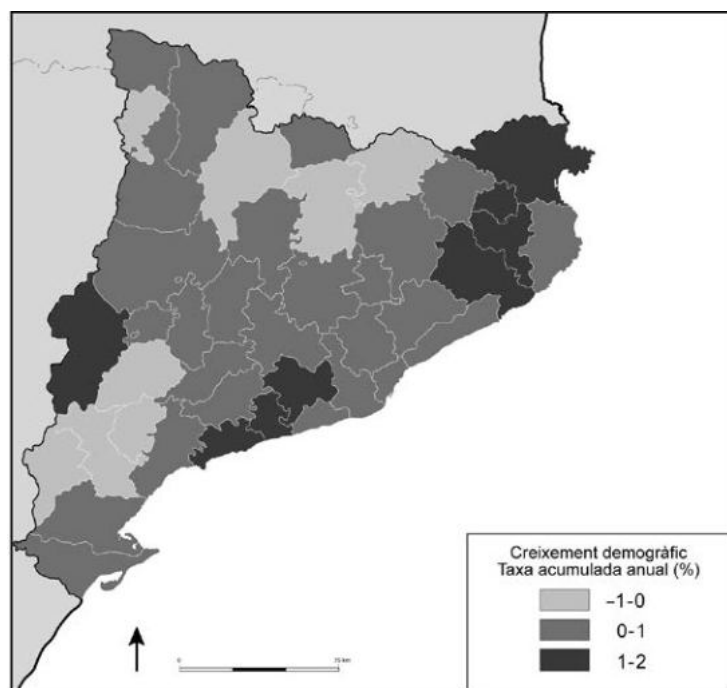
OPCIÓ A

Exercici 1

[5 punts en total]

Observeu el mapa següent i responeu a les qüestions plantejades.

Creixement de la població a Catalunya (2008-2014)



FONT: FUNDACIÓ DEL MÓN RURAL. *Atles de la nova ruralitat* [en línia], 2015.

1. Descriuiu la informació representada en el mapa.

[1 punt]

2. Definiu els termes *poblament* i *creixement natural*.

[1 punt]

poblament:

creixement natural:

3. Exposeu raonadament les causes de les diferències en el creixement demogràfic que s'observen en el mapa.

[1,5 punts]

4. Expliqueu les característiques i la morfologia del poblament rural a Catalunya.
[1,5 punts]

Exercici 2

[5 punts en total]

Observeu la fotografia següent i responeu a les qüestions plantejades.

Paisatge del delta de l'Ebre (2014)



FONT: Fotografia cedida pel Laboratori d'Anàlisi i Gestió del Paisatge (LAGP), de la Universitat de Girona.

1. Descriuiu el paisatge que mostra la fotografia i esmenteu les dues comarques per les quals s'estén el delta de l'Ebre.

[1 punt]

2. Definiu els termes *unitat de paisatge* i *conca hidrogràfica*.

[1 punt]

unitat de paisatge:

conca hidrogràfica:

3. Responen a les qüestions següents relacionades amb el delta de l'Ebre:

[1,5 punts]

a) Quins elements antròpics apareixen en el paisatge de la fotografia? Relacioneu-los amb les activitats econòmiques del Delta.

b) Expliqueu quins tipus d'intervencions humanes en el curs fluvial de l'Ebre poden afectar l'equilibri i la conservació del Delta.

4. Expliqueu les característiques generals (longitud, règim fluvial i cabal) que presenten els rius del vessant mediterrani ibèric i relacioneu-les amb el relleu i les particularitats del clima mediterrani.

[1,5 punts]

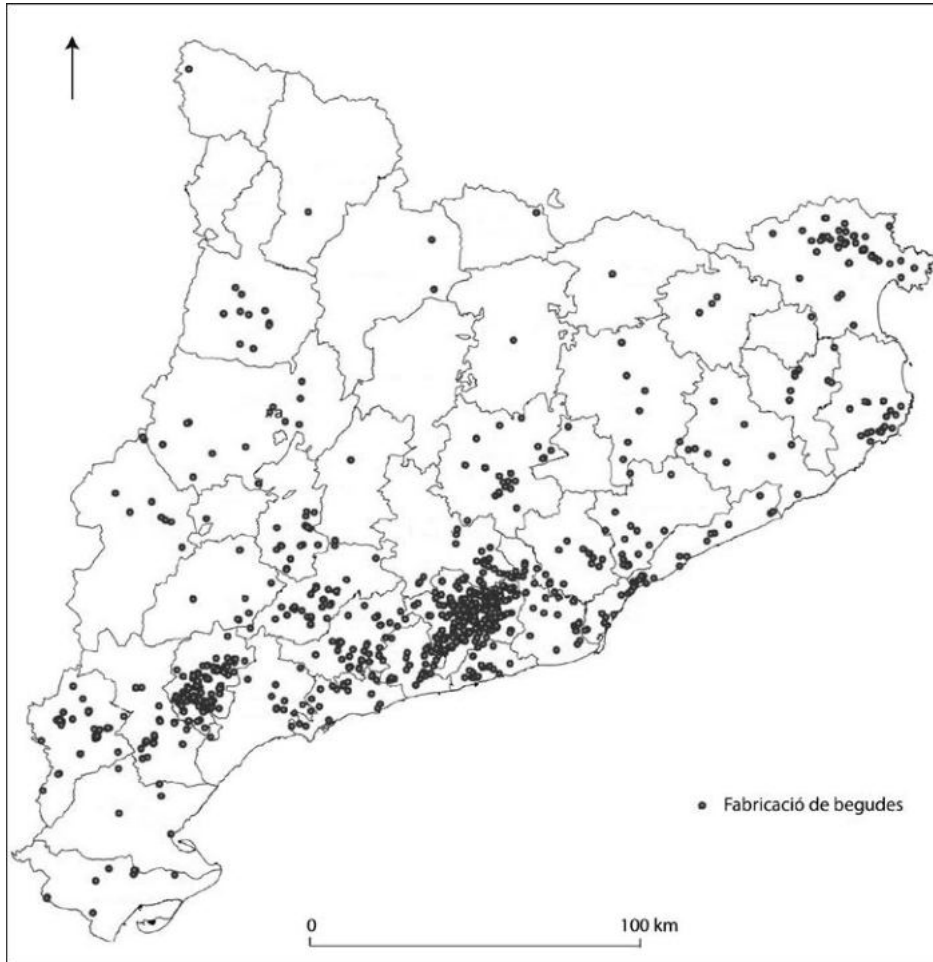
OPCIÓ B

Exercici 1

[5 punts en total]

Observeu el mapa següent i responeu a les qüestions plantejades.

Distribució de les indústries productores de begudes a Catalunya (2016)



FONT: DEPARTAMENT D'AGRICULTURA, RAMADERIA, PESCA I ALIMENTACIÓ. *Mapes amb la distribució territorial de les indústries agroalimentàries per sectors [en línia]*, 2017.

1. Descriviu la informació representada en el mapa.

[1 punt]

2. Definiu els termes *valor afegit* i *logística*.

[1 punt]

valor afegit:

logística:

3. Esmenteu els tipus d'indústries de begudes que hi ha a Catalunya i expliqueu les causes de la distribució geogràfica que presenten.

[1,5 punts]

4. Exposeu els objectius essencials de la política agrícola comuna (PAC).
[1,5 punts]

Exercici 2

[5 punts en total]

Observeu la taula següent i responeu a les qüestions plantejades.

Consum d'energia primària a Espanya (2014)

<i>Energia primària</i>	<i>Consum (%)</i>
Petroli	42,70
Gas natural	20,00
Energia nuclear	12,60
Carbó	10,10
Energia eòlica, solar i geotèrmica	6,40
Energia hidràulica	2,80
Biomassa, biocarburants i residus	5,40
Total	100,00

FONT: Adaptació de dades publicades per l'Institut Nacional d'Estadística (INE), 2016.

1. Descriviu la informació que conté la taula.

[1 punt]

2. Definiu els termes *energia primària* i *pobresa energètica*.

[1 punt]

energia primària:

pobresa energètica:

3. Justifiqueu en quina mesura són vertaderes o falses les afirmacions següents:

[1,5 punts]

a) L'energia elèctrica no és contaminant ni contribueix a l'efecte d'hivernacle.

b) El consum d'energia és un bon indicador del nivell de benestar.

c) Espanya és un estat energèticament dependent de l'exterior.

4. Descriviu els trets principals de l'energia nuclear tenint en compte els aspectes següents:
- Quin origen i quines característiques té?
 - On es produeix? Quines aplicacions té aquest tipus d'energia i quin consum se'n fa?
 - Quins són els avantatges i els inconvenients d'aquest tipus d'energia?

[1,5 punts]


Etiqueta del corrector/a



--	--

--	--

Etiqueta identificadora de l'alumne/a



Institut
d'Estudis
Catalans