

Proves d'accés a la universitat

Dibuix tècnic

Sèrie 1

Indiqueu les opcions triades:

Exercici 1: Opció A Opció B

Exercici 2: Opció A Opció B

Exercici 3: Opció A Opció B

Qualificació		TR
Exercicis	1	
	2	
	3	
Suma de notes parcials		
Qualificació final		

Etiqueta de l'alumne/a

Ubicació del tribunal

Número del tribunal

Etiqueta de qualificació

Etiqueta del corrector/a

La prova consisteix a fer TRES dibuixos. Heu d'escollir UNA de les dues opcions del dibuix 1 (A o B), UNA de les dues opcions del dibuix 2 (A o B) i UNA de les dues opcions del dibuix 3 (A o B).

Els enunciats dels exercicis es donen, en alguns casos, amb el dibuix final ja iniciat per tal d'evitar-vos construccions prèvies innecessàries. Si el text de l'enunciat inclou alguna mesura d'un element no dibuixat sense fer referència a l'escala, s'ha d'entendre que el dibuix corresponent s'ha de fer a escala 1:1.

Resoleu cadascun dels dibuixos a la mateixa pàgina on figura l'enunciat.

Feu els dibuixos amb llapis i amb l'ajuda del material que considereu adequat. No es poden utilitzar models de figures geomètriques.

Deixeu constància de les línies auxiliars utilitzades i concreteu, amb valor de línia, el resultat.

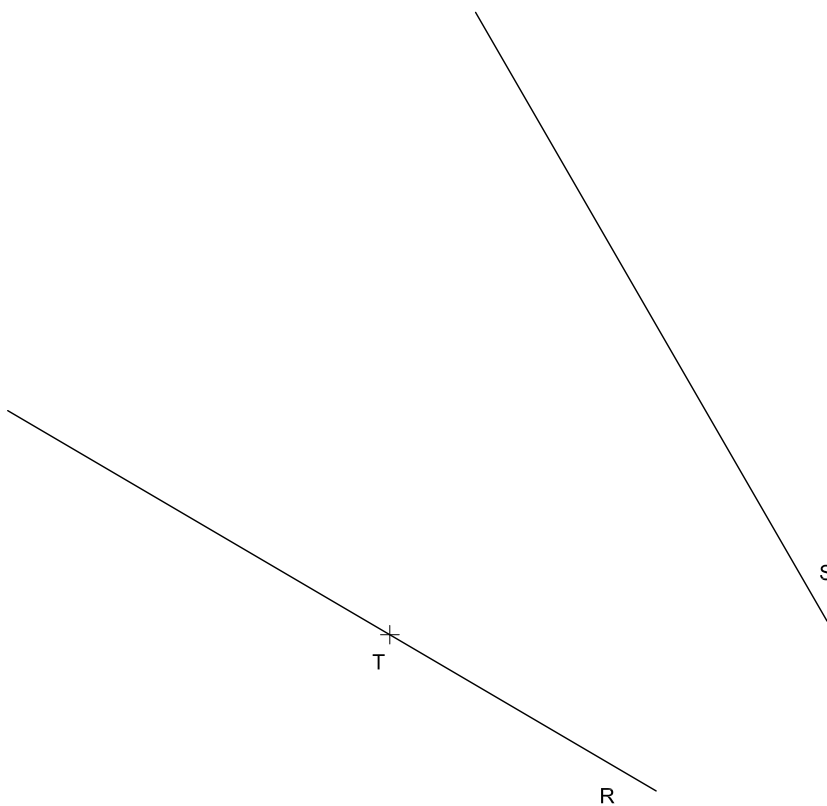
En la qualificació de cadascun dels dibuixos, s'assignarà un màxim del 80 % de la puntuació corresponent al procés seguit i a la solució correcta; el 20 % restant es destinarà a valorar la qualitat gràfica.

Dibuix 1. Opció A

TEMA: Geometria plana.

EXERCICI [3 punts en total]:

- Dibuixeu un triangle rectangle de manera que tingui la hipotenusa sobre la recta R , un catet sobre la recta S i que la seva circumferència inscrita sigui tangent a la recta R en el punt T . [1,5 punts]
- Dibuixeu la circumferència circumscrita al triangle de l'apartat anterior. [1 punt]
- Determineu el valor real de la hipotenusa en metres tenint en compte que el dibuix està fet a escala 1:25, i escriviu-lo en la casella situada a la part inferior de la pàgina. [0,5 punts]

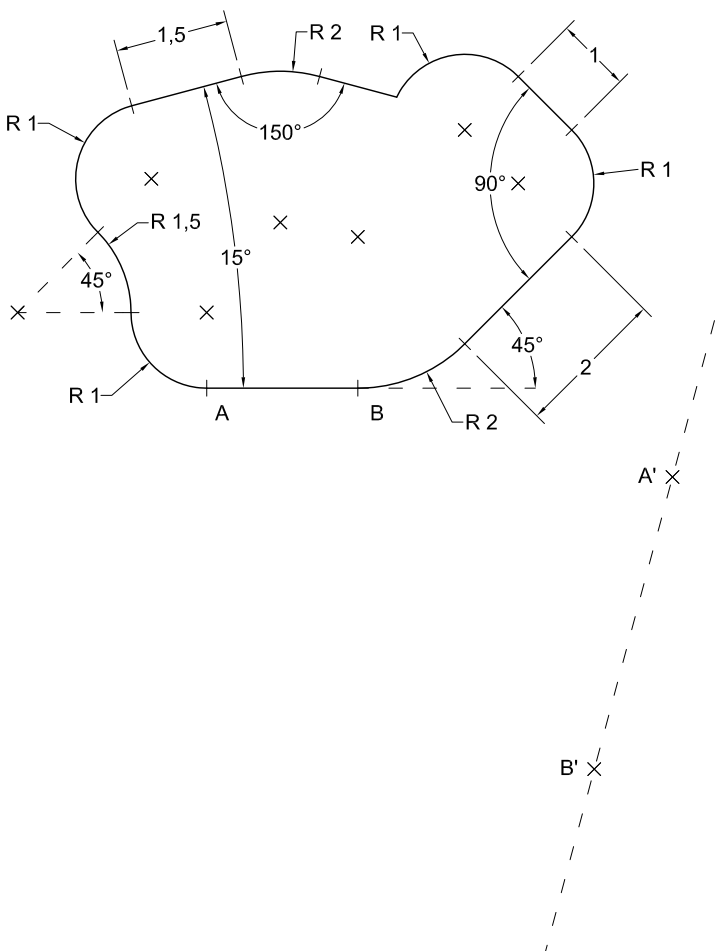


Hipotenusa:	metres
-------------	--------

Dibuix 1. Opció B

TEMA: Geometria plana.

EXERCICI [3 punts en total]: Dibuixeu una figura semblant a la donada a escala doble de manera que el segment AB se situï sobre el segment $A'B'$. Deixeu constància del procés gràfic seguit. [0,25 punts per cada segment o arc de circumferència]

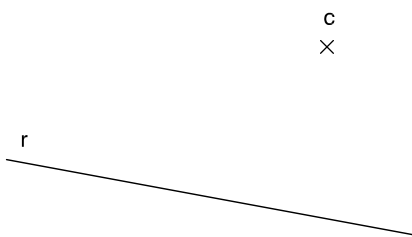
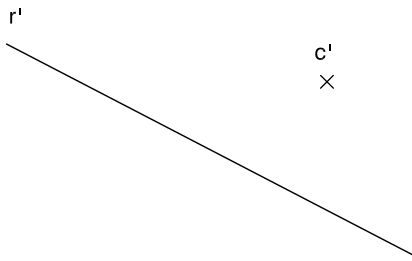


Dibuix 2. Opció A

TEMA: Dièdric.

EXERCICI [3 punts en total]:

- Dibuixeu les projeccions horitzontal i vertical d'un hexàgon regular que tingui el centre en el punt $c-c'$ i un dels costats sobre la recta $r-r'$. [2,5 punts]
- Determineu el valor real d'un costat de l'hexàgon en veritable magnitud, tenint en compte que el dibuix està fet a escala 1:250, i escriviu-lo en la casella situada a la part inferior de la pàgina. [0,5 punts]



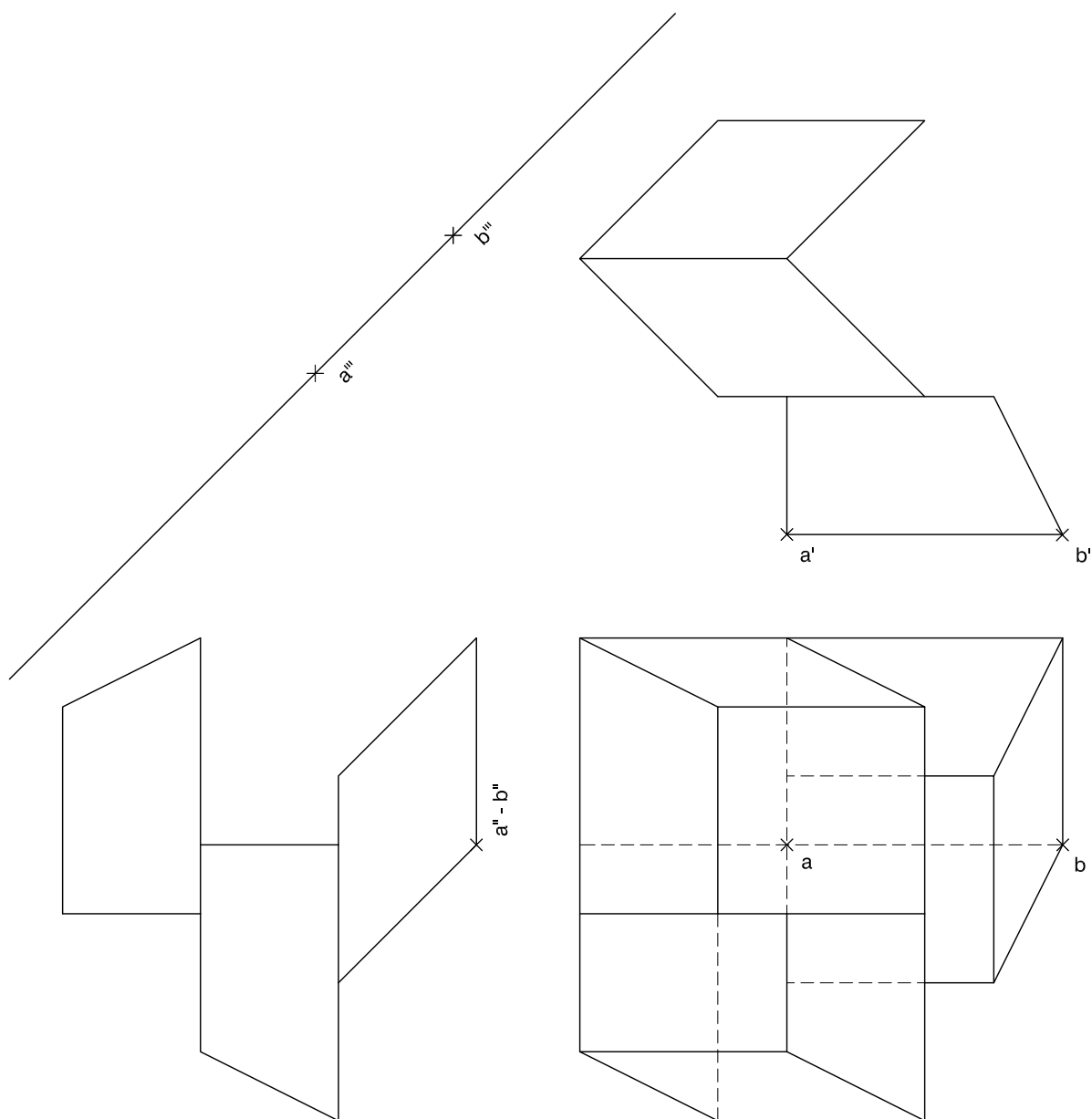
Costat de l'hexàgon:	metres
----------------------	--------

Dibuix 2. Opció B

TEMA: Dièdric.

EXERCICI [3 punts en total]: Interpreteu la figura següent i determineu-ne la nova projecció ortogonal de manera que la projecció vertical del segment $ab-a'b'-a''b''$ passi a ser $a'''b'''$ (canvi de pla vertical). Dibuixeu únicament les línies vistes. [1 punt per cada volum]

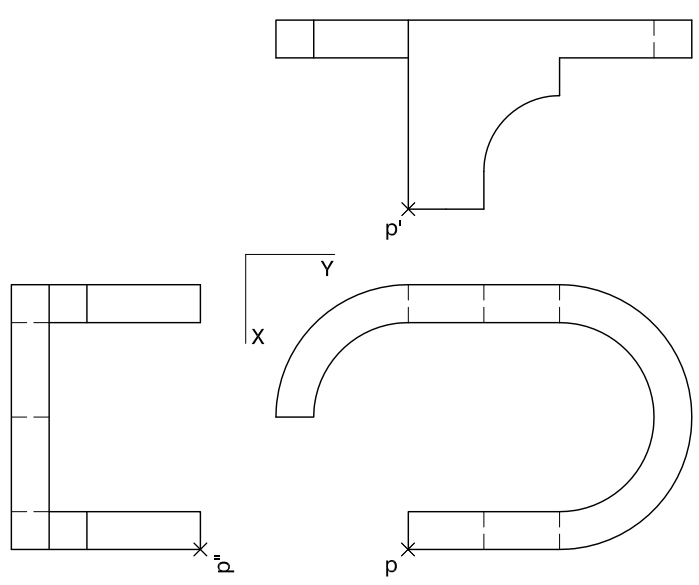
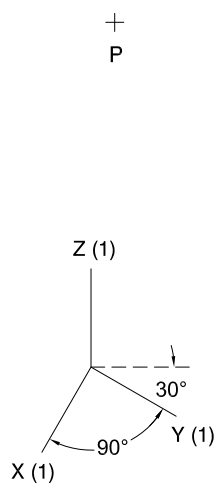
examens.cat



Dibuix 3. Opció A

TEMA: Axonometria.

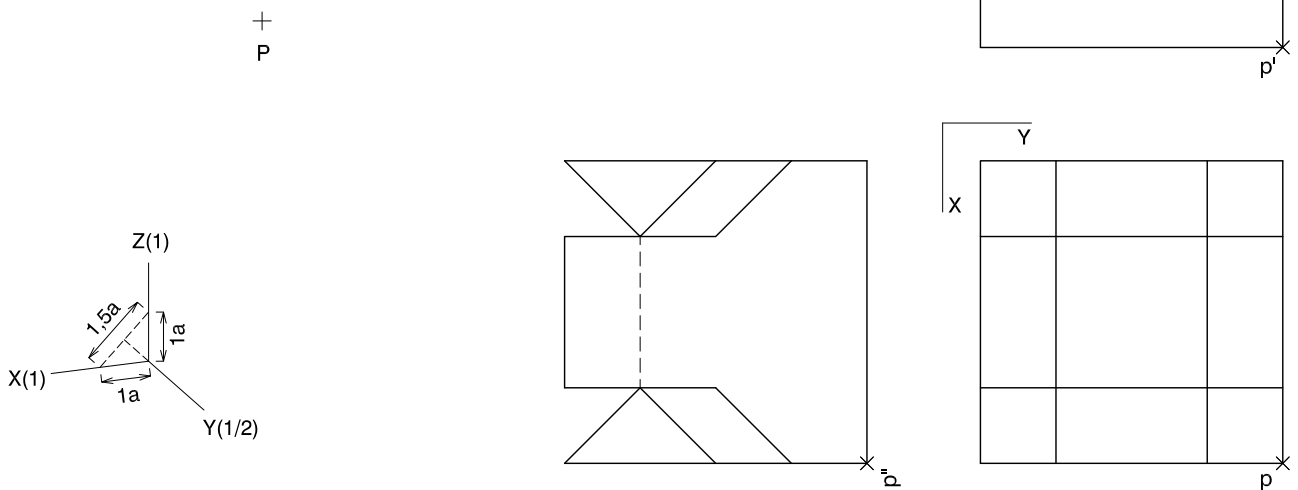
EXERCICI [4 punts en total]: Interpreteu el sòlid representat en planta, alçat i perfil, i, situant el punt $p-p'-p''$ en la posició P del paper, dibuixeu-ne l'axonometria amb la terna proposada (militar sense reducció) a escala doble (mesurant en les direccions dels eixos axonòmtrics). Concreteu el sòlid únicament amb les línies vistes. [0,5 punts per cada suport, 0,5 punts per cada arc el·líptic i 1 punt per cadascun dels dos perfils circulars superiors]



Dibuix 3. Opció B

TEMA: Axonometria.

EXERCICI [4 punts en total]: Interpreteu el sòlid representat en planta, alçat i perfil, i, situant el punt $p-p'-p''$ en la posició P del paper, dibuixeu-ne l'axonometria amb la terna proposada (ortogonal dimètrica normalitzada DIN 5) a escala doble (mesurant en les direccions dels eixos axonomètrics). Concreteu el sòlid únicament amb les línies vistes. [1,5 punts per cadascun dels dos volums davanters i 0,5 punts per cadascun dels dos posteriors]



--	--

--	--

Etiqueta de l'alumne/a



Institut
d'Estudis
Catalans